

THE IMPACT IAS ACADEMY

TNPSC Group 2A Test – 7

General Studies

1. Which one of the following Acts described, the company's territories in India were for the First time called the British possession in India?
- a. Regulating Act 1773
b. Pitt's India Act 1784
c. Charter Act 1833
d. Government of India Act 1858

பின்வரும் எந்த சட்டம் இந்தியாவில் கம்பெனியின் பகுதிகளை முதல் முறையாக பிரிட்டிஷ் ஆளுகைக்கு உட்பட்ட பகுதியாக அறிவித்தது

- a. ஒழுங்குமுறை சட்டம் 1773
b. பிட் இந்திய சட்டம் 1784
c. பட்டைய சட்டம் 1833
d. இந்திய அரசு சட்டம் 1858

2. Which one of the following Act deprived the Governor of Bombay and Madras of their Legislative power?
- a. Charter Act 1813
b. Charter Act 1833
c. Pitt's India Act 1784
d. Charter Act 1853

பின்வரும் எந்த சட்டம் பம்பாய் மற்றும் மெட்ராஸ் மாகாண ஆளுநர்களின் சட்டம் இயற்றும் அதிகாரத்தைப் பறித்தது

- a. பட்டைய சட்டம் 1813
b. பட்டைய சட்டம் 1833
c. பிட் இந்திய சட்டம் 1784
d. பட்டைய சட்டம் 1853

3. Which one of the following New provinces was created based on Indian Council Act 1861
1. Bengal
2. NWFP
3. Sind
4. Punjab
5. Assam

இந்திய கவுன்சில் சட்டம் 1861ன் அடிப்படையில் புதிதாக உருவாக்கப்பட்ட மாநிலங்கள் எவை?

1. வங்காளம்
2. NWFP
3. சிந்து
4. பஞ்சாப்
5. அஸ்ஸாம்

- a. 1, 2, 3, 4, 5
b. 1, 2, 5 Only
c. 1, 2, 4 Only
d. 1, 2, 3 Only

4. Which one of the following statement is correct regarding Indian Council Act 1892
- a. It introduced Portfolio system in India
b. It empowered the Viceroy to issue ordinances during an emergency
c. It increased the functions of Legislative Council Member
d. It restored the Legislative powers to the Bombay and Madras presidencies

இந்திய கவுன்சில் சட்டம் 1892 பற்றிய பின்வரும் கூற்றுகளில் எது சரி?

- a. இச்சட்டம் இந்தியாவில் இலாகா (துறை) முறையை அறிமுகப்படுத்தியது
b. அவசர நிலையின் பொழுது அவசர சட்டங்களை இயற்றுவதற்கு வைசிராயிக்கு அனுமதி வழங்கியது
c. சட்டமன்ற உறுப்பினர்களின் அதிகாரம் மற்றும் பணிகளின் எல்லையை அதிகப்படுத்தியது

THE IMPACT IAS ACADEMY

d. பம்பாய் மற்றும் மெட்ராஸ் மாகாணங்களுக்கு சட்டம் இயற்றும் அதிகாரத்தை திரும்பி அளித்தது

5. Who was the first Indian to join the viceroy's executive council?

1. Satyendra Prasad Sinha
2. Sir Dinkar Rao
3. Raja of Banaras
4. Maharaja of Patiala

வைசிராயின் நிர்வாகக் குழுவில் உறுப்பினராக சேர்க்கப்பட்ட முதல் இந்தியர் யார்?

1. சத்தியேந்திர பிரசாத் சின்ஹா
2. சர் தின்கர் ராவ்
3. பானாரஸ் ராஜா
4. பாட்டியாலாவின் மகாராஜா

- a. 1 Only b. 2, 3, 4 Only c. 1, 3, 4 Only d. 1, 2, 3, 4

6. Which one of the following Act introduced separate Electorate for Muslims

- a. Indian Council Act 1861
- b. Indian Council Act 1892
- c. Indian Council Act 1909
- d. Government of India Act 1919

பின்வரும் எந்த சட்டம் முஸ்லீம் மக்களுக்கு தனி பிரதிநிதித்துவ முறையை அறிமுகப்படுத்தியது

- a. இந்திய கவுன்சில் சட்டம் 1861
- b. இந்திய கவுன்சில் சட்டம் 1892
- c. இந்திய கவுன்சில் சட்டம் 1909
- d. இந்திய அரசு சட்டம் 1919

7. Which one of the following statement is correct regarding Government of India Act of 1935

1. It provided for the adoption of diarchy at the center
2. It separated for the first time provincial budgets from the central budget
3. It abolished the Council of India
4. It provided for the establishment of a Reserve Bank of India

இந்திய அரசு சட்டம் 1935 பற்றிய பின்வரும் கூற்றுகளில் எது சரி?

1. இச்சட்டம் மத்தியில் இரட்டை ஆட்சிமுறையை அறிமுகப்படுத்தியது
2. இச்சட்டம் முதல் முறையாக மத்திய பட்ஜெட்டில் இருந்து மாநில பட்ஜெட்டைப் பிரித்தது
3. இச்சட்டம் கவுன்சில் ஆப் இந்தியாவை ரத்து செய்தது
4. இச்சட்டம் இந்திய ரிசர்வ் வங்கியை ஏற்படுத்துவதற்கு அனுமதி வழங்கியது

- a. 1, 2, 3, 4 b. 1, 2, 3 Only c. 1, 2, 4 Only d. 1, 3, 4 Only

8. Which one of the following year, the Budget was introduced in British India

பின்வரும் எந்த ஆண்டு பிரிட்டிஷ் இந்தியாவில் முதன்முறையாக நிதி நிலை அறிக்கை தாக்கல் செய்யப்பட்டது

- a. 1860 b. 1909 c. 1919 d. 1935

9. Arrange the following historical events in their correct chronological order

1. August offer
2. Cripps Mission
3. Bombay Mutiny
4. Quit India Movement

THE IMPACT IAS ACADEMY

பின்வரும் வரலாற்று நிகழ்வுகளை காலவரிசைப்படுத்துக?

1. ஆகஸ்டு நன்கொடை
2. கிரிப்சு இந்திய மிஷின்
3. பம்பாய் புரட்சி
4. வெள்ளையனே வெளியேறு சட்டம்

- a. 1, 2, 3, 4 b. 1, 2, 4, 3 c. 1, 4, 2, 3 d. 3, 1, 4, 2

10. Match the following

- | | | |
|----------------------------------|---|---------|
| A. Nehru Report | - | 1. 1940 |
| B. Second Round Table Conference | - | 2. 1928 |
| C. Individual Satyagraha | - | 3. 1946 |
| D. Lord Attlee's Announcement | - | 4. 1931 |

பொருத்துக:

- | | |
|------------------------------|---------|
| A. நேரு அறிக்கை | 1. 1940 |
| B. இரண்டாவது வட்டமேஜை மாநாடு | 2. 1928 |
| C. தனிநபர் சத்யாகிரகம் | 3. 1946 |
| D. அட்லி பிரடிவின் அறிவிப்பு | 4. 1931 |

	A	B	C	D
a.	2	4	1	3
b.	4	2	1	3
c.	2	4	3	1
d.	3	2	1	4

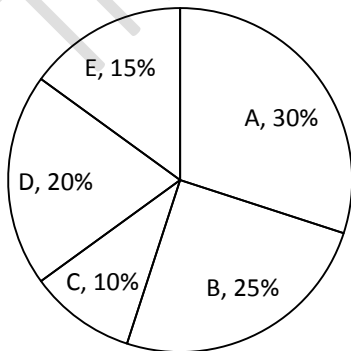
11. A man can do a piece of work in 5 days, but with his son he can do it in 3 days. In what time can the son do it alone?

ஒரு மனிதன் ஒரு வேலையை தனியே 5 நாட்களிலும் மகனுடன் சேர்ந்து அதே வேலையை 3 நாட்களிலும் முடிக்கிறார் எனில், மகன் மட்டும் அவ்வேலையை எத்தனை நாட்களில் முடிப்பார்?

- a. 6 ½ days b. 7 days c. 7 ½ days d. 8 days

12. The World Wide Tea product of 5 countries for the year 2011-2012.

2011-2012க்கான உலக தேயிலை உற்பத்தியில் 5 நாடுகளின் பங்கு:



THE IMPACT IAS ACADEMY

The angle subtended by E at the centre of the circle is

வட்டத்தின் மையத்தில் E-இன் வட்டக்கோணம்

- a. 15^0 b. 30^0 c. 54^0 d. 72^0

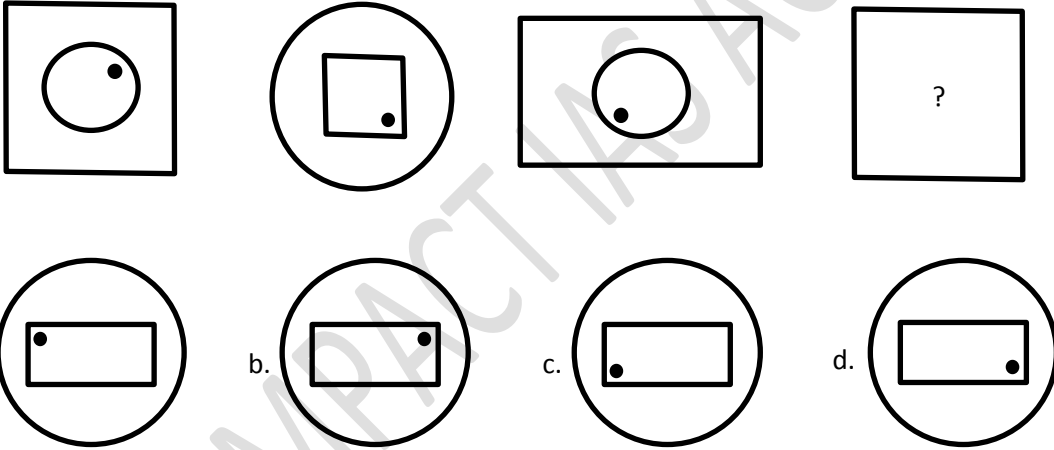
13. Two taps A and B can fill a tank in 10 hours and 15 hours respectively. Both the taps are opened for 4 hours and then B is turned off. The time taken by A to fill the remaining tank is

A, B என்ற குழாய்கள் ஒரு தொட்டியினை முறையே 10 மற்றும் 15 மணி நேரத்தில் நிரப்ப இயலும் இரண்டு குழாய்களும் 4 மணி நேரம் திறந்து விடப்பட்ட பிறகு குழாய் B அடைக்கப்படுகிறது. தொட்டியின் எஞ்சிய பகுதியை நிரப்ப குழாய் A எடுத்துக் கொள்ளும் நேரமானது

- a. $12/5$ hours b. $13/10$ hours c. 6 hours d. $10/3$ hours

14. Next figure in the sequence

இத்தொடரில் அடுத்தப்படம்



15. If 9 girls can prepare 135 garlands in 3 hours, how many girls are needed to prepare 270 garlands in 1 hour

3 மணி நேரத்தில் 9 பெண்கள் 135 மாலைகளை தயாரிக்கின்றனர் எனில், ஒரு மணி நேரத்தில் 270 மாலைகளை தயாரிக்க தேவைப்படும் பெண்களின் எண்ணிக்கை

- a. 20 b. 54 c. 43 d. 19

16. A and B can do a work in 8 days, B and C in 12 days, C and A in 24 days. If A, B and C work together, then the number of days, they will complete the work is

A & B என்பவர்கள் ஒரு வேலையை 8 நாட்களிலும், B & C என்பவர்கள் 12 நாட்களிலும், C & A என்பவர்கள் 24 நாட்களிலும் அவ்வேலையை முடிக்கின்றனர். A, B & C என்பவர்கள் அவ்வேலையை சேர்ந்து செய்தால், அவர்கள் அவ்வேலையை முடிக்கத் தேவைப்படும் நாட்கள்

THE IMPACT IAS ACADEMY

- a. 6 days b. 7 days c. 8 days d. 4 days

17. Two pipes can fill a water tank separately by 12 minutes and 20 minutes a waste pipe can drain off in 30 gallons/minutes. If all the three pipes are the open the tank fills in 30 minutes, then the capacity of water tank is

ஒரு தண்ணீர் தொட்டியை இரு குழாய்கள் தனித்தனியாக 12 நிமிடங்களில், 20 நிமிடங்களில் தண்ணீரை நிரப்புகின்றன. வெளியேற்றும் குழாயானது ஒரு நிமிடத்திற்கு 30 கேலன் நீரை வெளியேற்றுகின்றது. மூன்று குழாய்களும் திறந்திருக்கும் போது தண்ணீர் தொட்டியில் 30 நிமிடங்களில் நீர் நிரம்புகிறது எனில், அத்தொட்டியின் கொள்ளளவு

- a. 300 gallons b. 400 gallons c. 500 gallons d. 600 gallons

18. A car is running at a speed of 108kmph. What distance will it cover in 15 seconds?

ஒரு கார் மணிக்கு 108கி.மீ வேகத்தில் ஓடிக் கொண்டிருக்கிறது. அந்த கார் 15 நொடிகளில் எவ்வளவு தூரம் செல்லும்?

- a. 45m b. 55m c. 450m d. none of these

19. A train running at 75 km/hour crosses a telegraphic pole in 4 seconds. What is the length of the train?

மணிக்கு 75 கி.மீ வேகத்தில் செல்லும் புகைவண்டி நிலையான கம்பத்தை 4 வினாடிகளில் கடக்கும் எனில் அந்த புகைவண்டியின் நீளம் என்ன?

- a. 20 meters b. 80m c. 72m d. 36 m

20. An electric train is moving at a speed of 68km per hour. What is the distance covered by it in meters in 180 seconds

மணிக்கு 68 கி.மீ வேகத்தில் செல்லும் புகைவண்டி 180 வினாடிகளில் கடக்கும் தூரம் மீட்டரில் எவ்வளவு?

- a. 4700 b. 5100 c. 5000 d. 6000

21. I am Indian "Tom Tom" said by

- a. B.G. Thilak b. Gopal Krishna Gokhale
c. Annie Besant d. Jawaharlal Nehru

நான் ஒரு இந்தியர் "தப்பட்டை" என்று கூறியவர்?

- a. திலகர் b. கோபால கிருஷ்ண கோகலே
c. அன்னிபெசண்ட் d. ஜவஹர்லால் நேரு

THE IMPACT IAS ACADEMY

22. Who was the founder of the Kisan Mazdoor Praja Party?

- a. Acharya Menon
b. J.B. Kripalani Menon
c. Acharya J.B. Kripalani
d. Jai Prakash Narayanan

கிஸான் மஸ்தூர் பிரஜ்ஜா கட்சியைத் தோற்றுவித்தவர் யார்?

- a. ஆச்சார்யா மேனன்
b. ஜே.பி.கிருபாளினி மேனன்
c. ஆச்சார்யா ஜே.பி.கிருபாளினி
d. ஜெய் பிரகாஷ் நாராயணன்

23. The Akali Movement was an off shoot of which movement?

- a. Aligarh Movement
b. Sing Sabha Movement
c. Parsi Reform Movement
d. Theosophical Movement

அகாலி இயக்கம் என்பது எதனுடைய கிளை?

- a. அலிகார் இயக்கம்
b. சிங் சபா இயக்கம்
c. பார்சி சீர்திருத்த இயக்கம்
d. பிரம்ம ஞான சபை இயக்கம்

24. Choose incorrect pair

- a. Public Meeting Act -1907
b. The News Paper Act (incitement to offences) -1908
c. Indian Press Act-1909
d. The Defense of India Act -1915

தவறான இணையைத் தேர்வு செய்க:

- a. பொதுக் கூட்ட சட்டம் - 1907
b. பத்திரிக்கை சட்டம் - 1908
c. இந்தியப் பத்திரிக்கை சட்டம் - 1909
d. இந்திய சட்டத்தை பாதுகாத்தல் - 1915

25. The Chronological order of the freedom movement in India is

1. Mountbatten plan
2. Wavell plan
3. Cripps Mission
4. Cabinet Mission

இந்திய சுதந்திரப் போராட்டங்களை வரிசைப்படுத்துக:

1. மெளண்ட்பேட்டன் திட்டம்
2. வேவல் திட்டம்
3. கிரிப்சு தூதுக்குழு
4. கேபினட் தூதுக்குழு

- a. 4, 3, 2, 1
b. 1, 2, 3, 4
c. 3, 2, 4, 1
d. 2, 3, 1, 4

26. All India Congress session held at Karachi in 1931 under the leadership of

- a. Nehru
b. Gandhi
c. Rajaji
d. Patel

1931 ஆம் ஆண்டு கராச்சியில் நடைபெற்ற அகில இந்திய காங்கிரஸ் மாநாட்டுக்குத் தலைமை வகித்தவர்?

- a. நேரு
b. காந்தி
c. இராஜாஜி
d. படேல்

27. Gandhi referred which among the following as 'Post Dated Cheque in Failing Bank'?

- a. Government India act 1935
b. Communal award 1932
c. August offer 1940
d. Cripps Mission 1942

'திவாலாகிக் கொண்டிருக்கும் வங்கியின் பின் தேதியிட்ட காசோலை' என காந்தியடிகள் எதைக் குறிப்பிட்டார்?

- a. இந்திய அரசுச் சட்டம் 1935
b. வகுப்பு வாத அறிக்கை 1932
c. ஆகஸ்ட் நன்கொடை 1940
d. கிரிப்சு தூதுக்குழு 1942

THE IMPACT IAS ACADEMY

28. Which among the following was the first association formed to fight for the rights of the people in Madras Presidency

- a. Madras People Movement b. Madras Magajana Sabha
c. Madras Swadeshi Association d. Madras Maga Sabha

சென்னை மாகாணத்தில் மக்கள் உரிமைகளை நிலை நாட்ட ஏற்படுத்தப்பட்ட முதல் அமைப்பு எது?

- a. சென்னை மக்கள் இயக்கம் b. சென்னை மகாஜன சபை
c. சென்னை சுதேசி சங்கம் d. சென்னை மகா சபை

29. In which struggle did the Tirupur Kumaran lost his life

- a. Anti-Simon Commission Agitation b. Civil Disobedience Movement
c. Non-cooperation Movement d. Quit India Movement

திருப்பூர் கொடிகாத்த குமரன் இறந்தது எந்த போராட்டத்தின் போது?

- a. சைமன் தூதுக்குழு எதிர்ப்பு b. சட்ட மறுப்பு இயக்கம்
c. ஒத்துழையாமை இயக்கம் d. வெள்ளையனே வெளியேறு இயக்கம்

30. The founder of Young India News Paper was

- a. Bharathiyar b. Sathyamoorthy c. V.O.C d. Rajaji

இளம் இந்தியா என்ற பத்திரிக்கையை நடத்தியவர் யார்?

- a. பாரதியார் b. சத்தியமூர்த்தி
c. வ.உ.சிதம்பரம் பிள்ளை d. இராஜாஜி

31. Which Act separated Burma from India

- a. Government of India Act of 1935 b. Independence Act of 1947
c. Minto-Morley Reform Act d. Montague –Chelmsford Act

எந்த சட்டம் பர்மாவை இந்தியாவிலிருந்து பிரித்தது?

- a. இந்திய அரசுச்சட்டம் 1935 b. சுதந்திர சட்டம் 1947
c. மின்டோ மார்லி சட்டம் d. மாண்டேகு செம்ஸ் ஃபோர்டு சட்டம்

32. The 42nd amendment Act 1976 was added to the Preamble, which of the following words

1. Socialist 2. Fraternity 3. Secular 4. Integrity

42வது அரசியலமைப்பு சட்டத் திருத்தம் 1976, பின்வரும் எந்த வார்த்தைகளை முகப்புரையில் இணைத்தது?

1. சமதர்மம் 2. சகோதரத்துவம் 3. சமய சார்பற்ற 4. நேர்மையான

- a. 1 Only b. 1, 2, 3 Only c. 1, 3, 4 Only d. 1, 2, 3, 4

33. Which of the following State Legislative assembly have less than 60 members

1. Sikkim 2. Goa 3. Mizoram 4. Nagaland

பின்வரும் எந்த மாநில சட்டமன்றத்தில் உறுப்பினர்களின் எண்ணிக்கை 60க்கும் குறைவாக உள்ளது?

THE IMPACT IAS ACADEMY

1. சிக்கிம் 2. கோவா 3. மிசோரம் 4. நாகலாந்து
a. 1, 2 Only b. 1, 2, 3 Only c. 1, 2, 4 Only d. 1, 2, 3, 4

34. Which one of the following State have maximum strength of Legislative council
a. Uttar Pradesh b. Andra Pradesh c. Karnataka d. Bihar

பின்வரும் எந்த மாநிலம் அதிகமான சட்ட மேலவை உறுப்பினர்களின் எண்ணிக்கையை கொண்டுள்ளது

- a. உத்திர பிரதேசம் b. ஆந்திர பிரதேசம் c. கர்நாடகா d. பீகார்

35. At present how many High courts are there in India

தற்பொழுது இந்தியாவில் எத்தனை உயர் நீதிமன்றங்கள் உள்ளன

- a. 21 b. 22 c. 24 d. 25

36. Who among the following persons, was responsible for the merger of Princely States into the Indian Dominion?

- a. C. Rajagopalachari b. Dr Rajendra Prasad
c. Sardar Vallabhai Patel d. Sri Vithalbhai Patel.

இந்தியாவில் மன்னராட்சிப் பகுதிகளை ஒன்றினைத்து இந்தியா என்கிற நாடு உறுவாவதற்கு காரணமாக இருந்தவர் யார்?

- a. சி.ராஜகோபாலாச்சாரி b. ரஜேந்திர பிரசாத்
c. சர்தார் வல்லபாய் படேல் d. ஸ்ரீ வித்தல்பாய் படேல்

37. What percentage of the members (quorum) required to hold meetings of the legislative chambers?

அவை நடைபெறுவதற்கு எத்தனை சதவீத உறுப்பினர்கள் இருப்பது அவசியம்?

- a. 15 b. 20 c. 12 d. 10

38. Who among the following is known as 'the father of local self-government' in India?

- a. Mahatma Gandhi b. Lord Canning c. Lord Ripon d. Lord Wellesley.

உள்ளாட்சி அமைப்புகளின் தந்தை யார்?

- a. மகாத்மா காந்தி b. கேன்னிங் பிரபு c. ரிப்பன் பிரபு d. வெல்லஸ்லி பிரபு

39. Which one of the following is not correctly matched

State	Year
a. Haryana	- 1964
b. Sikkim	- 1975
c. Mizoram	- 1987
d. Tripura	- 1972

THE IMPACT IAS ACADEMY

- கீழ்க்கண்டவற்றுள் எது தவறாக பொருந்தியுள்ளது?
மாநிலங்கள் உருவாக்கப்பட்ட ஆண்டு
- a. ஹரியானா - 1964
b. சிக்கிம் - 1975
c. மிசோராம் - 1987
d. திரிபுரா - 1972

40. Functions of the Panchayath raj is notified in
a. Tenth Schedule b. Eleventh Schedule c. Twelfth Schedule d. Ninth Schedule

- பஞ்சாயத்து ராஜின் பணிகள் குறித்து சொல்லும் அட்டவணை எது?
a. 10வது அட்டவணை b. 11வது அட்டவணை
c. 12வது அட்டவணை d. 9வது அட்டவணை

41. A can do a work in 12 days, B in 6 days and C in 3 days. A and B start working together and after a day, C joins them. The total number of days required to complete the work is

ஒரு வேலையை முழுமையாக தனித்தனியே செய்து முடிக்க A, B, C ஆகியோருக்கு 12 நாட்கள், 6 நாட்கள் மற்றும் 3 நாட்கள் என்க. A, B இருவரும் வேலை செய்ய ஆரம்பித்து மறு நாள் C யும் அவர்களோடு வேலையை செய்தால், அந்த வேலையை முழுமையாக செய்து முடிக்கத் தேவையான நாட்கள்

- a. $2 \frac{2}{7}$ days b. $1 \frac{2}{7}$ days c. $2 \frac{1}{7}$ days d. $1 \frac{1}{7}$ days

42. If ROAD is coded as URDG then SWAN is coded as

ROAD என்பதை URDG எனும் குறியீட்டால் தரப்படின் SWAN எனும் குறியீடு எதனைக் குறிக்கும்?

- a. VXDQ b. VZDQ c. VZCP d. UXDQ

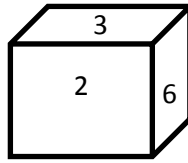
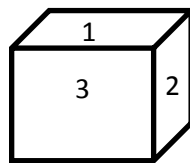
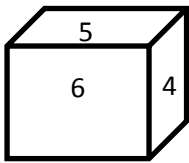
43. If 7 spiders make 7 webs in 7 days, then 1 spider will make 1 web in how many days?

7 சிலந்திகள், 7 கூடுகளை 7 நாட்களில் செய்தால் 1 சிலந்தி 1 கூட்டினை எத்தனை நாட்களில் செய்யும்?

- a. 1 b. $\frac{7}{2}$ c. 7 d. 49

44. The number opposite to 1 in the given die

கொடுக்கப்பட்டுள்ள பகடையில் 1க்கு எதிரே உள்ள எண்



- a. 3 b. 4 c. 5 d. 6

THE IMPACT IAS ACADEMY

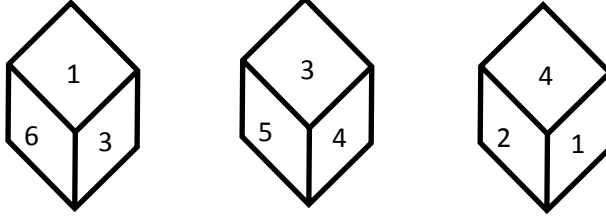
45. Seven men can complete a work in 12 days. They started the work and after 5 days, two men left. In how many days will the work be completely by the remaining men?

7 மனிதர்கள் ஒரு வேலையை 12 நாட்களில் முடிப்பர். அவர்கள் வேலையை ஆரம்பித்து 5 நாட்களுக்கு பிறகு இரண்டு மனிதர்கள் வேலையை விட்டு சென்று விட்டனர். இன்னும் எத்தனை நாட்களில் மீதம் உள்ளவர்கள் அந்த வேலையை முடிப்பர்?

- a. 5.8 days b. 6.8 days c. 9.8 days d. 8 days

46. Three positions of the same die are given. Find the number opposite to the side represented by 2.

ஒரு பகடையின் 3 திசைகள் கீழே தரப்பட்டுள்ளது. 2-ஆல் குறித்த பக்கத்திற்கு எதிர்பக்க எண் யாது?



- a. 5 b. 3 c. 6 d. 1

47. Two pipes A and B can fill a tank in 10 hours and 15 hours respectively. Find the time taken to fill the tank when both the pipes are turned on simultaneously

A & B என்ற இரு குழாய்கள் முறையே 10 மணி மற்றும் 15 மணி நேரங்களில் ஒரு நீர்த் தொட்டியை நிரப்புகின்றன எனில் அவ்விரு குழாய்களும் சேர்த்து அத்தொட்டியை நிரப்ப எடுத்துக் கொள்ளும் நேரம் எவ்வளவு?

- a. 6 hours b. 5 hours c. 30 hours d. 12 hours

48. If RIVER is coded as OFSBO then WATER is coded as

RIVER என்பதை OFSBO எனும் குறியீட்டால் தரப்படின், WATER எனும் குறியீடு எதனைக் குறிக்கும்?

- a. ZDWTU b. ZDWHU c. ZCWIV d. ZCUJW

49. A and B can together finish a work in 30 days. They worked at it for 20 days and then B left the remaining work was done by A alone in 20 more days. A alone can finish the work in

Aயும் Bயும் சேர்ந்து ஒரு வேலையை 30 நாட்களில் முடிக்க முடியும். இருவரும் அந்த வேலையை 20 நாட்களில் சேர்ந்து செய்தனர். பிறகு B ஆனவர் வேலைக்கு வரவில்லை. A மட்டும் மீதமுள்ள அந்த வேலையை 20 நாட்கள் செய்து முடித்தார் எனில் A மட்டும் முழுவதும் அந்த வேலையை செய்து முடிக்க எத்தனை நாட்கள் ஆகும்?

- a. 48 days b. 50 days c. 54 days d. 60 days

THE IMPACT IAS ACADEMY

50. Find the odd man out in the following

பின்வரும் எண்கள் தொடர்வரிசையில் பொருந்தாத எண்ணைக் கண்டுபிடி

1, 144, 16, 25, 49, 81, 121, 36, 62

a. 1 b. 49 c. 121 d. 62

51. Dr. Muthulakshmi Reddy started an orphanage known as

a. Saraswathi Illam b. Avvai Illam c. Anbu Illam d. Lakshmi Illam

டாக்டர்.முத்துலட்சுமி ரெட்டி அவர்கள் துவங்கிய ஆதரவற்றோர் இல்லத்தின் பெயர்?

a. சரஸ்வதி இல்லம் b. ஓளவை இல்லம் c. அன்பு இல்லம் d. லட்சுமி இல்லம்

52. Which of the following is/are not correct?

1. Aligarh Movement was led by Sir Syed Ahmed Khan.
2. Sir Syed Ahmed Khan supported Shuddhi Movement.
3. Sir Syed Ahmed Khan Started Anglo Oriental College.

பின்வருவனவற்றுள் தவறானது எது?

1. சர் சையத் அகமது கான் அலிகார் இயக்கத்தை வழி நடத்தினார்
2. சர் சையத் அகமது கான் சுத்தி இயக்கத்தை ஆதரித்தார்
3. சர் சையத் அகமது கான் ஆங்கிலோ - ஓரியண்டல் கல்லூரியை ஆரம்பித்தார்

a. 1 only b. 1 and 2 c. 2 only d. 1 and 3

53. Which one of the following is correctly matched

- | | | |
|------------------------------|---|------------------------------|
| a. Ettayapuram | - | Collector Ash |
| b. Montagu Chelmsford report | - | Government of India Act 1919 |
| c. Swaraj Party | - | B.G. Tilak |
| d. Prohibition | - | V.O. Chidambaram |

பின்வருவனவற்றுள் எது சரியாக பொருந்தியுள்ளது?

- | | | |
|----------------------------------|---|-------------------------|
| a. எட்டையபுரம் | - | கலெக்டர் ஆஷ் |
| b. மாண்டேகு சேம்ஸ்போர்ட் அறிக்கை | - | இந்திய அரசு சட்டம் 1919 |
| c. சுயராஜ்ய கட்சி | - | பி.ஜி. திலக் |
| d. மது விலக்கு | - | வி.ஓ.சிதம்பரம் |

54. Match the following

- | | |
|-----------------------------|--------------------------|
| A. Tattvabodhini Sabha | 1. Henry Vivian Derozio |
| B. Young Bengal Movement | 2. Vishnu Sasthri Pandit |
| C. Widow remarriage society | 3. Veerasaligam |
| D. Hitakarini Samajam | 4. Devendranath Tagore |

பொருத்துக:

- | | |
|------------------------|----------------------------|
| A. தத்துவ போதினி சபை | 1. ஹென்றி விவியன் தெரோஜியே |
| B. இளம் வங்காள இயக்கம் | 2. விஷ்ணு சாஸ்திரி பண்டித் |
| C. விதவை மறுமண சங்கம் | 3. வீரேசலிங்கம் |
| D. ஹிதகர்னி சமாஜம் | 4. தேவெந்திரநாத் தாகூர் |

www.impactiasacademy.com

AC – 12, 3rd Floor, 2nd Avenue, Anna Nagar, Opp SBI Bank, Chennai – 600 040

Call : 044 – 43537455 / 09840 557455 : e-mail: impactias@gmail.com

THE IMPACT IAS ACADEMY

	A	B	C	D
a.	4	1	2	3
b.	4	3	2	1
c.	3	4	1	2
d.	2	1	4	3

55. Who performed Wardha scheme of education?

- a. Mahatma Gandhi b. Jawaharlal Nehru c. Dr. Radha Krishnan d. Hatog

வார்தா கல்வி முறையை கொண்டு வந்தவர் யார்?

- a. மகாத்மா காந்தி b. நேரு c. Dr.ராதாகிருஷ்ணன் d. ஹடாக்

56. Rukmini Arundale was a very famous in

- a. Drama b. Carnatic Music c. Dance d. Hindustani Music

கீழ்வரும் எந்த கலையில் ருக்மணி அருண்டேல் பிரபலமானவர்?

- a. நாடகம் b. கர்நாடக இசை c. நாட்டியம் d. ஹிந்துஸ்தானி இசை

57. Sati was abolished by an Act in the year

சதி என்னும் உடன்கட்டை வழக்கத்தை ஒழித்தசட்டம் கீழ்க்கண்டவற்றுள் எந்த ஆண்டு கொண்டுவரப்பட்டது

- a. 1825 b. 1827 c. 1829 d. 1830

58. Who was rightly called as 'Father of Local Self-Government' in modern India?

- a. Lord Mayo b. Lord Rippon c. Lord Lytton d. Lord Curzon

நவீன இந்தியாவின் "ஸ்தல சுய ஆட்சியின் தந்தை" என்று அழைக்கப்படுபவர் யார்?

- a. மேயோ பிரபு b. ரிப்பன் பரபு c. லிட்டன் பிரபு d. கர்சன் பிரபு

59. Match List1 with List 2

List 1	List 2
A. Lala Lajpat Rai	1.The philosophy of the bomb
B. Bhagat Singh	2. Chittagong Armory Raid
C. Surya Sen	3. Assassination of Saunders
D. Bhagwaticharan vahra	4. Extremist Nationalist

பொருத்துக:

A. லாலாஜபதி ராய்	1. வெடிகுண்டு தத்துவம்
B. பகத்சிங்	2. சிட்டகாங் ஆயுதக் கிடங்கு தாக்குதல்
C. சூரியா சென்	3. சாண்டரஸ் கொலை
D. பகவதிசரண் வரா	4. தீவிரவாத தேசியவாதி

THE IMPACT IAS ACADEMY

	A	B	C	D
a.	2	1	4	3
b.	3	4	1	2
c.	2	4	1	3
d.	4	3	2	1

60. Match the following

A. Beak	1. Lahore Congress
B. Archiblod	2. Mohamedean Defense Association
C. Rahmat Ali	3. Principal, Aligarh College
D. Pakistan Resolution	4. Coining the word Pakistan

பொருத்துக:

A. பெக்	1. லாகூர் மா நாடு
B. ஆர்ச்சபால்ட்	2. முகமதியர் தற்காப்பு சட்டம்
C. ரெகமத் அலி	3. முதல்வர் அலிகள் கல்லூரி
D. பாகிஸ்தான் தீர்மானம்	4. பாகிஸ்தான் என்ற சொல்லாக்கம்

	A	B	C	D
a.	2	3	4	1
b.	3	1	2	4
c.	1	4	3	2
d.	4	2	1	3

61. Oath of office to the Governor will be administered by the

a. Chief justice of India	b. President
c. Chief justice of High court	d. Speaker of legislation assembly

ஆளுநருக்கு பதவி பிரமாணம் செய்து வைப்பவர் யார்?

a. உச்ச நீதிமன்ற தலைமை நீதிபதி	b. ஜனாதிபதி
c. உயர் நீதிமன்ற தலைமை நீதிபதி	d. சட்ட மன்ற சபாநாயகர்

62. The salary and allowances of Governor is charged on

- a. Consolidated fund of India
- b. Contingency fund of State
- c. Consolidated fund of State
- d. Either in consolidated (or) contingency fund of State

ஆளுநரின் சம்பளம், எதில் இருந்து வழங்கப்படும்

- a. இந்திய தொகுப்பு நிதி
- b. இந்திய அவசர நிதி
- c. மாநில தொகுப்பு நிதி
- d. மாநில தொகுப்பு (அ) அவசர நிதி

THE IMPACT IAS ACADEMY

63. Match the following

Articles of the Constitution

Content

A. Article 54

1. Election of the President of India

B. Article 75

2. Appointment of the Prime Minister and Council of Minister

C. Article 155

3. Appointment of the Governor of a State

D. Article 164

4. Appointment of the Chief of Minister and Council of Minister of a State

5. Composition of Legislative Assemblies

பொருத்துக:

ஷரத்து

A. ஷரத்து 54

B. ஷரத்து 75

C. ஷரத்து 155

D. ஷரத்து 164

தொடர்பு

1. ஜனாதிபதியின் தேர்தல்

2. பிரதம மந்திரி மற்றும் அமைச்சரவை நியமனம்

3. மாநில ஆளுநர் நியமனம்

4. முதலமைச்சர் மற்றும் அமைச்சரவை நியமனம்

5. மாநில சட்டமன்றத்தின் கலவை

	A	B	C	D
a.	1	2	3	4
b.	1	2	4	5
c.	2	1	3	5
d.	2	1	4	3

64. The Ninth Schedule to the Indian Constitution was added by

a. First Amendment

b. Eighth Amendment

c. Ninth Amendment

d. Fourty Second Amendment

இந்திய அரசியலமைப்பில் ஒன்பதாவது அட்டவணை பின்வரும் எதனால் இணைக்கப்பட்டது

a. முதல் சட்டத்திருத்தம்

b. எட்டாவது சட்டத்திருத்தம்

c. ஒன்பதாவது சட்டத்திருத்தம்

d. 42வது சட்டத்திருத்தம்

65. Nationalist leader who was known as Punjab Kesari

a. Hukum Singh

b. Lajpat Rai

c. Man Singh

d. Lala Shevak Ram

'பஞ்சாப் கேசரி' என்று அழைக்கப்பட்ட தேசிய தலைவர்

a. ஹீக்கம் சிங்

b. லாலா லஜபத்ராய்

c. மான்சிங்

d. லாலா ஷேவக் ராம்

66. British P.M. who announced the communal awards in 1932 was

a. Churchchill

b. Macdonald

c. Attlee

d. Chamberlain

1932ல் வகுப்புவரி பிரதி நிதித்துவத்தை அறிவித்த இங்கிலாந்தின் தலைமை அமைச்சர்

a. சர்ச்சில்

b. மக்டானல்டு

c. அட்லி

d. சேம்பர்லின்

67. Who christened the depressed class as Harijans

a. Ambedkar

b. Gandhi

c. Periyar

d. Rajaji

THE IMPACT IAS ACADEMY

தாழ்த்தப்பட்ட மக்களுக்கு ஹரிசன் என்ற பெயர் சூட்டியவர் யார்?

- a. அம்பேத்கார் b. காந்தி c. பெரியார் d. ராஜாஜி

68. Who founded Indian National Army

- a. Rash Bihari Bose b. Subash Chandra Bose
c. Soumitra Bose d. Tarun Bose

இந்திய தேசிய சேனையை நிறுவியவர் யார்?

- a. ராஷ் பிகாரி போஸ் b. சுபாஷ் சந்திர போஸ்
c. செளமித்ர போஸ் d. தருண் போஸ்

69. The cabinet delegation consist of

- a. Sir Stafford Cripps, Lord Pethic Lawence, Mr. A. Alexander
b. Lord Wavel, Mr. A.V Alexander, Sir Staffort Cripps
c. Lord Wavel, Lord Pethic Lowence, A.V Alexander
d. Sir Stafford Cripps, Lord Wavel, Lord Pethic Lawence

அமைச்சரவை தூதுக் குழுவில் இடம் பெற்றிருந்தவர்

- a. சர் ஸ்டாப்போர்டு கிரிப்ப்ஸ், லார்டு பெத்திக் லாரன்ஸ் மற்றும் திரு.ஏ.வி.அலெக்சாந்தர்
b. லார்டுவேவல், திரு.ஏ.வி.அலெக்சாந்தர், மற்றும் சர் ஸ்டாப்போர்டு கிரிப்ப்ஸ்
c. லார்டுவேவல், லார்டு பெத்திக் லாரன்ஸ் மற்றும் திரு.ஏ.வி.அலெக்சாந்தர்
d. சர் ஸ்டாப்போர்டு கிரிப்ப்ஸ், லார்டுவேவல் மற்றும் லார்டு பெத்திக் லாரன்ஸ்

70. Which of the following is correctly matched?

- a. Bhagat Singh - Gadar Party
b. A.O. Hume - Bomb in the Central Hall of Parliament
c. Lala Hardayal - Indian National Congress
d. Vanchi Aiyar - Lord Ash

பின்வருவனவற்றுள் எது சரியாகப் பொருந்தியுள்ளது?

- a. பகத்சிங் - கதர்கட்சி
b. ஏ.ஓ.ஹியூம் - மத்திய பாராளுமன்ற மண்டபத்தில் வெடிகுண்டு
c. லாலா ஹர்தயாள் - இந்திய தேசிய காங்கிரஸ்
d. வாஞ்சி அய்யர் - ஆஷ்துரை

71. A and B do a piece of work in 10 days, B and C in 15 days, C and A in 18 days. In how many days can B alone do it?

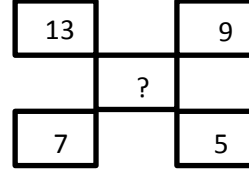
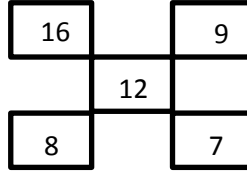
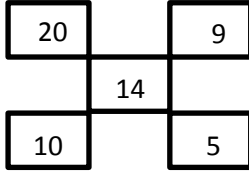
A & B ஒரு வேலையை 10 நாட்களிலும், B & C அதே வேலையை 15 நாட்களிலும், C & A அதே வேலையை 18 நாட்களிலும் முடிப்பர் எனில், B தனியே அவ்வேலையை எவ்வளவு நாட்களில் முடிப்பார்?

- a. 30 days b. 20 days c. 12 days d. 18 days

72. Find the missing number in the following diagram

THE IMPACT IAS ACADEMY

பின்வரும் படத்தைக் கொண்டு விடுபட்ட உறுப்பை காண்க



- a. 82 b. 96 c. 72 d. 84

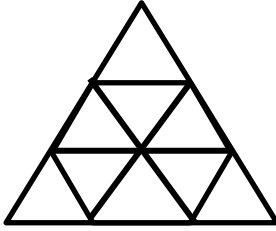
73. A, B and C together can finish a piece of work in 4 days. A alone can do in 12 days and B alone in 18 days. How many days will be taken by C to do it alone?

A, B, C மூவரும் ஒரு வேலையை 4 நாட்களில் முடிப்பர். A தனியே 12 நாட்களிலும் B தனியே 18 நாட்களிலும் அவ்வேலையை முடித்தால் C தனியே அவ்வேலையை எவ்வளவு நாட்களில் முடிப்பார்?

- a. 10 days b. 12 days c. 9 days d. 18 days

74. How many triangles are in the following figure?

கீழே உள்ள படத்தில் எத்தனை முக்கோணங்கள் உள்ளன



- a. 12 b. 13 c. 14 d. 15

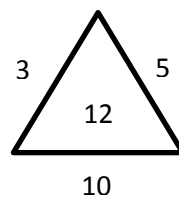
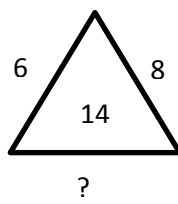
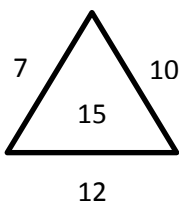
75. A and B can together do a piece of work in 30 days. B alone can do it in 40 days. A alone can do it in

Aயும் Bயும் சேர்ந்து ஒரு வேலையை 30 நாட்களில் செய்வர். B மட்டும் அவ்வேலையை 40 நாட்களில் செய்வார் எனில், A மட்டும் அவ்வேலையை எத்தனை நாளில் செய்வார்?

- a. 100 days b. 140 days c. 120 days d. 180 days

76. The missing number from the given diagram is

கொடுக்கப்பட்ட படங்களிலிருந்து விடுபட்ட எண்



THE IMPACT IAS ACADEMY

a. 6

b. 8

c. 12

d. 20

77. Pipes A and B can fill a tank in 5 hours and 6 hours respectively. Pipe C can empty it in 12 hours. If all the three pipes are open together then the tank will be filled in

A, B குழாய்கள் ஒரு தொட்டியை முறையே 5 மணி நேரம், 6 மணி நேரத்தில் நிரப்புகின்றன. குழாய் C அத்தொட்டியை 12 மணி நேரத்தில் காலி செய்கிறது. 3 குழாய்களும், ஒரே நேரத்தில் திறக்கப்பட்டால், தொட்டி நிரம்பும் நேரம்

a. 1 13/17 hours


b. 2 8/11 hours

c. 3 9/17 hours


d. 4 1/2 hours

78. Find the missed figure in the sequence

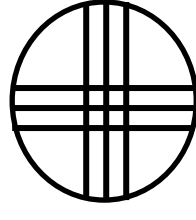
வரிசையில் உள்ள விடுபட்ட வரைவடத்தைக் கண்டுபிடிக்கவும்



(1)

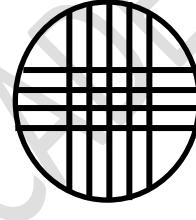


(2)

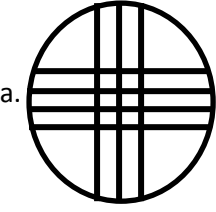


(3)


(?)



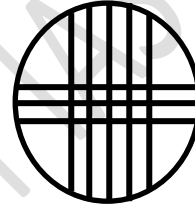
(5)



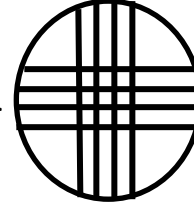
a.



b.



c.



d.

79. A can complete 2/3 part of a work in 10 days. A can complete 1/3 part of the same work in

A என்பவர் ஒரு வேலையின் 2/3 பகுதியை 10 நாட்களில் செய்து முடிப்பார். அதே வேலையின் 1/3 பகுதியை A செய்து முடிக்க ஆகும் நாட்களின் எண்ணிக்கை

a. 3 days

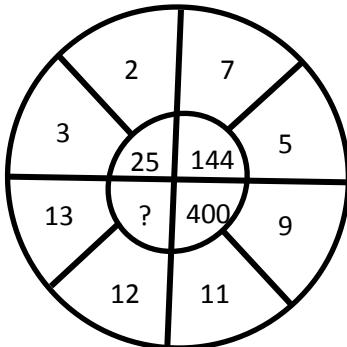
b. 4 days

c. 5 days

d. 6 days

80. Which number will replace the question mark in the figure?

இப்படத்தில் கேள்விக்குறியை எந்த எண் நிரப்பும்?



THE IMPACT IAS ACADEMY

a. 625

b. 1025

c. 1175

d. 825

81. Under the which Act, the supreme court was setup at Calcutta

a. Regulating Act of 1773

b. Pitts India Act of 1784

c. The Charter Act of 1813

d. The Charter Act of 1833.

எந்த சட்டத்தின் அடிப்படையில் கல்கத்தாவில் உச்ச நீதிமன்றம் அமைக்கப்பட்டது

a. ஒழுங்குமுறை சட்டம் - 1773

b. பிட்ஸ் இந்திய சட்டம் - 1784

c. பட்டைய சட்டம் - 1813

d. பட்டைய சட்டம் - 1833

82. According to Dadbhai Naroji Swaraj means

a. Complete Independence

b. Self-Government

c. Economic Independence

d. Political Independence

தாதாபாய் நவ்ரோஜி-யின் கூற்றுபடி "ஸ்வராஜ்" என்பது

a. முழுமையான சுதந்திரம்

b. சுய அரசு

c. பொருளாதார சுதந்திரம்

d. அரசியல் சுதந்திரம்

83. The Partition of Bengal (1905) was annulled by

a. Indian Council Act 1909

b. Chelmsford –Montague 1919

c. Proclamation of Delhi Durbar in 1911

d. Government of India Act 1935

கீழ்க்கண்ட எதன் படி வங்கபிரிவினை (1905) ஒழிக்கப்பட்டது

a. இந்திய கவுன்சில் சட்டம் 1909

b. சேம்ஸ் போட் ரிப்போர்ட் 1919

c. டெல்லி தர்பார் பிரகடனம் 1911

d. இந்திய அரசு சட்டம் 1935

84. Match the following and choose the correct answer from the code

A. Home Rule Movement - 1. 1920

B. Non-Co-Operation Movement - 2. 1942

C. Salt Sathyagraha - 3. 1916

D. Quit India Movement - 4. 1930

கீழ்க்கண்டவற்றை பொருத்தி, சரியான விடையை தேர்ந்தெடு

A. தன்னாட்சி இயக்கம் 1. 1920

B. ஒத்துழையாமை இயக்கம் 2. 1942

C. உப்பு சத்தியாகிரகம் 3. 1916

D. வெள்ளையனே வெளிரேறு இயக்கம் 4. 1930

A B C D

a. 3 1 4 2

b. 4 2 3 1

c. 3 4 1 2

d. 4 1 2 3

85. Find the Odd out with reference to the reforms Act of 1935

a. Provincial Autonomy

b. All India Federation

c. Dyarchy at the Centre

d. Dyarchy in the Provinces

THE IMPACT IAS ACADEMY

கீழ்காண்பனவற்றுள் 1935ஆம் ஆண்டு திருத்த சட்டத்துடன் பொருத்தமற்றதை குறிப்பிடுக
a. மாநில சுயாட்சி b. அகில இந்திய கூட்டாட்சி
c. மத்தியில் இரட்டையாட்சி d. மாநிலங்களின் இரட்டையாட்சி

86. Match List A with List B and select the correct answer

- | | |
|---------------------------------|--------------------------|
| A. Nehru Report | 1. Provincial Autonomy |
| B. Mont Ford Act | 2. Complete Independence |
| C. Government of India Act 1935 | 3. Dyarchy in Provinces |
| D. Lahore Congress | 4. Dominion Status |

பொருத்துக:

- | | |
|----------------------------|------------------------------|
| A. நேரு அறிக்கை | 1. மாநில தன்னாட்சி |
| B. மாண்ட்போடு சட்டம் | 2. முழு சுதந்திரம் |
| C. இந்திய அரசு சட்டம் 1935 | 3. மாநிலங்களின் இரட்டையாட்சி |
| D. லாகூர் காங்கிரஸ் | 4. தன்னாட்சி அந்தஸ்து |

	A	B	C	D
a.	4	3	2	1
b.	4	3	1	2
c.	3	2	1	4
d.	3	4	2	1

87. Which of the following are correctly matched

- | | |
|--------------------------|----------------------------|
| 1. V.D. Savarkar | - Abhinav Bharat Society |
| 2. Madam Gama | - The Bande Mataram |
| 3. Shyamji Krishna Varma | - Hind Swaraj |
| 4. Har Dayal | - Indian Home Rule Society |

பின்வருவனவற்றுள் சரியாகப் பொருத்தப்பட்டதை தேர்வு செய்க?

- | | |
|---------------------------|----------------------------|
| 1. வி.டி.சாவக்கர் | - அபிநவ் பாரதசங்கம் |
| 2. மேடம் காமா | - வந்தே மாதரம் |
| 3. ஷியாம்ஜி கிருஷ்ண வர்மா | - இந்து சுயராஜ்யம் |
| 4. ஹர்தயாள் | - இந்தியன் சுயாட்சி சங்கம் |

- a. 1 and 3 b. 1 and 4 c. 1 and 2 d. 2 and 3

88. Who among the following were Indian Freedom fighters outside India?

- | | |
|------------------------|-------------------|
| 1. Lakshmi Swaminathan | 2. Aruna Asaf Ali |
| 3. Madam Cama | 4. Usha Mehta |

கீழ்க்குறிப்பிட்டவர்களில் வெளி நாட்டிலிருந்து போராடிய இந்திய சுதந்திர போராட்ட வீரர்கள் யார்?

- | | |
|-------------------------|-------------------|
| 1. லட்சுமி சுவாமி நாதன் | 2. அருணா ஆசப் அலி |
| 3. மேடம் காமா | 4. உஷா மேத்தா |

- a. 1 and 3 b. 2 and 3 c. 1 and 4 d. 1 and 2

THE IMPACT IAS ACADEMY

89. Match the Newspaper with Publisher

- | | | |
|------------------------|---|-----------------|
| A. Lokamanya Thilak | - | 1. Vande Matram |
| B. Sri Aurobindo Ghosh | - | 2. Commonweal |
| C. G. Subramanya Aiyar | - | 3. Maratha |
| D. Dr. Annie Besant | - | 4. The Hindu |

கீழே கொடுக்கப்பட்ட பத்திரிக்கையின் ஆசிரியர்களை சரியாக பொருத்துக:

- | | |
|-------------------------|-----------------|
| A. லோக்மான்ய திலகர் | 1. வந்தே மாதரம் |
| B. ஸ்ரீ அரபிந்த கோஷ் | 2. ஜாமன் வீல் |
| C. ஜி.சுப்ரமணிய அய்யர் | 3. மாரத்தா |
| D. டாக்டர்.அன்னிபெசண்ட் | 4. தி ஹிந்து |

	A	B	C	D
a.	3	1	4	2
b.	1	4	2	3
c.	4	2	1	3
d.	2	3	4	1

90. Match the List A and List B

List A

- A. Brahma Samaj
- B. Arya Samaj
- C. Ramakrishna Mission
- D. Theosophical Society

List B

- 1. Swami Vivekananda
- 2. Madame Blavatsky
- 3. Rajaram Mohan Roy
- 4. Swami Dayanada Saraswathi

பொருத்துக:

- | | |
|----------------------|---------------------------|
| A. பிரம்ம சமாஜம் | 1. சுவாமி வினேகானந்தர் |
| B. ஆரிய சமாஜம் | 2. மேடம் பிளவாட்ஸ்கி |
| C. ராமகிருஷ்ணா மிஷன் | 3. ராஜாராம் மோகன்ராய் |
| D. பிரம்ம ஞான சபை | 4. சுவாமி தயானந்த சரஸ்வதி |

	A	B	C	D
a.	3	4	1	2
b.	3	2	1	4
c.	4	1	2	3
d.	1	3	4	2

91. The Indian National Leader who established a provisional government of India in Singapore in 1943 was

- | | |
|--------------------------|---------------------|
| a. Surendranath Banerjee | b. M.N Roy |
| c. Subash Chandra Bose | d. Jawaharlal Nehru |

சிங்கப்பூரில் தற்காலிக அரசாங்கத்தை 1943ல் அமைத்த இந்திய தேசியத் தலைவர்

- | | |
|---------------------------|-------------------|
| a. சுரேந்திர நாத் பானர்ஜி | b. எம்.என்.ராய் |
| c. சுபாஷ் சந்திரபோஸ் | d. ஜவஹர்லால் நேரு |

THE IMPACT IAS ACADEMY

92. Who amongst the following can be removed without Parliament's resolution?
- a. Governor of a state
b. Any judge of the Supreme Court
c. Any judge of a High Court
d. Chief Election Commissioner.

கீழ்க்காணும் பதவி உடையவர்களுல் யார் பாராளுமன்ற தீர்மானம் இன்றி நீக்கப்படலாம்

a. மாநில ஆளுநர்
b. உச்ச நீதிமன்ற நீதிபதி
c. உயர் நீதிமன்ற நீதிபதி
d. தலைமை தேர்தல் ஆணையர்

93. The prohibiting the suspension of Article 20 and 21 (Protection in respect of conviction of offences and protection of life and personal liberty respectively) even during National Emergency is included in constitutional amendment act of

அரசியல் அமைப்பின் ஷரத்து 20 மற்றும் 21 ஆகியவையை, தேசிய அவசரநிலை காலத்திலும் பாதுகாக்கும், சட்டத்திருத்தம் எது

- a. 24th Amendment Act
b. 42nd Amendment Act
c. 44th Amendment Act
d. 27th Amendment Act.

94. According to 73rd Constitutional Amendment Act, the minimum age for contesting elections to the Panchayati Raj Institutions should be-

73-வது அரசியல் திருத்தத்தின் படி, பஞ்சாயத்து தேர்தலில் போட்டியிட குறைந்தபட்ச வயது தகுதி

- a. 18 years
b. 23 years
c. 21 years
d. 25 years.

95. Which portfolio was held by Dr. Rajendra Prasad in the Interim Government formed in the year 1946?

- a. Defence
b. External affairs and commonwealth relations
c. Food and agriculture
d. none.

1946ம் ஆண்டு இடைக்கால அமைச்சரவையில் Dr.ராஜேந்திர பிரசாத் அவர்கள் எதனுடைய அமைச்சராக இருந்தார்?

- a. பாதுகாப்புத் துறை
b. வெளியுறவுத் துறை மற்றும் காமன்வெல்த் நாடுகள் உறவு
c. உணவு மற்றும் விவசாயம்
d. இவற்றில் ஏதுவும் இல்லை

96. How many High Courts in India have jurisdiction over more than one State (Union Territories not included)?

இந்தியாவில் எத்தனை உயர்நீதிமன்றங்களுக்கு ஒன்றுக்கும் மேற்பட்ட மாநிலங்களில் அதிகார வரம்பு உள்ளது (யூனியன் பிரதேசங்கள் அல்லாமல்)

- a. 2
b. 3
c. 4
d. 5.

THE IMPACT IAS ACADEMY

97. In India, the first Municipal Corporation was set up in which among the following City?

- a. Calcutta b. Madras c. Bombay d. Delhi.

இந்தியாவில், எந்த மாநகரத்தில் முதன் முதலில் மாநகராட்சி அமைந்தது
a. கல்கத்தா b. சென்னை c. மும்மை d. டெல்லி

98. Which in the first State in India where Panchayat Raj system was implemented?

- a. Andhra Pradesh b. Rajasthan c. Tamil Nadu d. Maharashtra

பஞ்சாயத்து ராஜ் முறையினை இந்தியாவில் முதல் முறையாக நடைமுறைப்படுத்திய மாநிலம் எது?
a. ஆந்திரா b. ராஜஸ்தான் c. தமிழ்நாடு d. மகாராஷ்டிரா

99. Match the following

- | | |
|----------------------------------------------|---------|
| A. Balwantrai Mehta Committee | 1. 1978 |
| B. Community Development Programme | 2. 1957 |
| C. Ashok Mehta Committee | 3. 1952 |
| D. 73 rd Constitutional Amendment | 4. 1992 |

பொருத்துக:

- | | |
|---------------------------------|---------|
| A. பல்வேந்தராய் மேத்தா குழு | 1. 1978 |
| B. சமுதாய வளர்ச்சி திட்டம் | 2. 1957 |
| C. அசோக் மேத்தா குழு | 3. 1952 |
| D. 73வது அரசியலமைப்பு திருத்தம் | 4. 1992 |

- | | A | B | C | D |
|----|---|---|---|---|
| a. | 1 | 3 | 2 | 4 |
| b. | 2 | 3 | 4 | 1 |
| c. | 2 | 3 | 1 | 4 |
| d. | 3 | 1 | 2 | 4 |

100. Which one of the following language is not included in the 8th schedule?

- a. Maithili b. Dogri c. Tulu d. Santhali

கீழ்க்கண்டவற்றுள் எந்த மொழி அட்டவணை 8இல் சேர்க்கப்படவில்லை?
a. மய்திலி b. டோக்ரி c. துளு d. சாந்தாளி

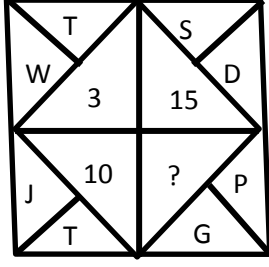
101. If 6 men and 8 boys can do a piece of work in 10 days while 26 men and 48 boys can do the same work in 2 days, then what is the time taken by 15 men and 20 boys to complete the same type of work?

6 ஆண்கள், 8 சிறுவர்கள் இணைந்து ஒரு வேலையை செய்ய, 10 நாட்கள் தேவைப்படும்; மற்றும் 26 ஆண்கள், 48 சிறுவர்கள் இணைந்து அதே வேலையை 2 நாட்களில் செய்வர் எனில், 15 ஆண்கள், 20 சிறுவர்கள் சேர்ந்து அதே வேலையை செய்ய எத்தனை நாட்கள் தேவைப்படும்?

- a. 4 days b. 5 days c. 6 days d. 7 days

102. What will come in the place of a “?”

கேள்விக்குறிபிட்ட இடத்தில் வரும் எண் யாது?



- a. 9 b. 6 c. 7 d. 3

103. A can do a work in 10 days and B can do the same work in 15 days. They earn Rs.1,500 together. How will they share this amount?

A ஒரு வேலையை 10 நாட்களிலும், B அதை 15 நாட்களிலும் செய்து முடிப்பார். இருவரும் சேர்ந்து அவ்வேலையை செய்து ரூ.1,500-ஐ ஈட்டினால், அத்தொகையை எவ்வாறு பிரித்துக் கொள்வர்?

- a. Rs.850 and Rs.650 b. Rs.900 and Rs.600
c. Rs.950 and Rs.550 d. Rs.1000 and Rs.500

104. Find out the wrong number in the sequence.

பின்வரும் தொடர்வரிசையில் தவறான எண் என்ன?

623, 251, 543, 356

- a. 543 b. 251 c. 623 d. 356

105. 2 men and 7 boys can do a piece of work in 14 days, 3 men and 8 boys can do the same in 11 days. In how many days, 3 times the work can be completed by 8 men and 6 boys?

2 ஆண்கள், 7 சிறுவர்கள் சேர்ந்து ஒரு வேலையை 14 நாட்களில் முடிப்பார்; 3 ஆண்கள், 8 சிறுவர்கள் சேர்ந்து, அதே வேலையை 11 நாட்களில் செய்து முடிப்பார். எனில், அதே போல் மூன்று மடங்கு வேலையை, 8 ஆண்கள், 6 சிறுவர்கள் சேர்ந்து எத்தனை நாட்களில் செய்து முடிப்பார்?

- a. 21 days b. 18 days c. 24 days d. 36 days

106. Find out the wrong number in the sequence

பின்வரும் தொடர்வரிசையில் தவறான எண் என்ன?

121, 264, 312, 462, 583

- a. 583 b. 264 c. 121 d. 312

THE IMPACT IAS ACADEMY

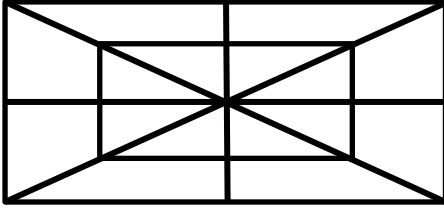
107. 12 men complete the 2400 sq.m ploughing work in 10 days. How many men are required to complete 3600 sq.m ploughing work in 18 days?

2400 ச.மீ. நிலத்தை 12 வேலையாட்கள் 10 நாட்களில் உழுது முடிப்பர். 3600 ச.மீ. நிலத்தை 18 நாட்களில் உழுவதற்கு எத்தனை வேலையாட்கள் தேவை?

- a. 10 men b. 15 men c. 18 men d. 20 men

108. How many straight lines are in the figure below?

கீழ்காணும் படத்தில் உள்ள நேர்கோடுகளின் எண்ணிக்கை



- a. 10 b. 12 c. 16 d. 8

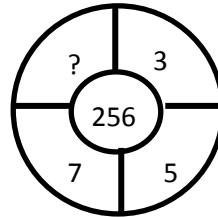
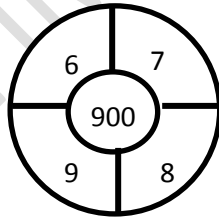
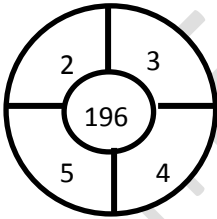
109. A, B and C can complete a piece of work in 24, 6 and 12 days respectively. If they work together, in how many days they will complete the same work?

A, B & C என்பவர்கள் ஒரு வேலையை முடிக்க முறையே 24, 6, 12 நாட்கள் எடுத்துக் கொள்வர் எனில், அதே வேலையை அவர்கள் அனைவரும் இணைந்து செய்து முடிக்க எத்தனை நாட்கள் தேவைப்படும்?

- a. 1/24 days b. 7/24 days c. 24/7 days d. 24/11 days

110. Find the missing number

விடுபட்ட எண்ணைக் காண்க



- a. 4 b. 3 c. 2 d. 1

111. Who edited the two magazines 'Navajivan' and 'Young India'?

- a. Mahatma Gandhi b. Aurobindo Ghosh
c. Shbhash Chandra Bose d. Motilal Nehru

'நவ ஜீவன் மற்றும் யங்இந்தியா' என்ற இரு பத்திரிக்கைகளின் ஆசிரியர் யார்?

- a. மகாத்மா காந்தி b. அரவிந்த் கோஷ்

THE IMPACT IAS ACADEMY

- c. சுபாஷ் சந்திரபோஸ் d. மோதிலால் நேரு

112. Who of the following attended all the three round table conferences?
a. B.R.Ambedkar b. Patel c. Jawaharlal Nehru d. M.M.Malaviya

- மூன்று வட்ட மேஜை மாநாடுகளிலும் கலந்து கொண்டவர்
a. பி.ஆர்.அம்பேத்கார் b. பட்டேல்
c. ஜவஹர்லால் நேரு d. எம்.எம்.மாளவியா

113. Who was called as the 'Frontier Gandhi'?
a. Dadabhai Naoroji b. Khan Abdul Ghaffar Khan
c. Sheik Abdullah d. Abul Kalam Azad

- எல்லைகாந்தி என அழைக்கப்படுபவர் யார்?
a. தாதாபாய் நௌரோஜி b. கான் அப்துல் கபார்கான்
c. ஷேக் அப்துல்லா d. அபுல்கலாம் ஆசாத்

114. Consider the following statements:

1. India was divided according to the Indian Independence Act, 1947
2. The two Independence dominions came into existence of August 14 – 15, 1947
3. Jinnah became the first Governor – General of Pakistan
4. C.Raja Gopalachari became the first Governor – General of free India

கீழ்க்கண்ட கூற்றுகளை ஆய்க:

1. 1947, இந்திய சுதந்திர சட்டப்படி இந்தியா பிரிக்கப்பட்டது
2. இரண்டு சுதந்திரமான டொமினியன்களும் ஆகஸ்டு 14-15, 1947ல் உதயமாயின
3. ஜின்னா பாகிஸ்தானின் முதல் கவர்னர் ஜெனரல் ஆனார்
4. சி.ராஜகோபாலச்சாரி சுதந்திர இந்தியாவின் முதல் கவர்னர் ஜெனரல் ஆவார்

- a. 1 alone is correct b. 1 & 2 are correct c. 1, 2 & 3 correct d. All are correct

115. Who was the viceroy of India when the Quit India Movement started in 1942?
a. Linlithgow b. Willington c. Wavell d. None of them

1942 ஆம் ஆண்டு வெள்ளையனே வெளியேறு இயக்கம் தொடங்கிய போது யார் இந்தியாவில் வைஸ்ராயாக இருந்தார்?

- a. லின்லித்கோ b. விலிங்டன் c. வேவெல் d. இவர்களில் இல்லை

116. What was the reason for the rejection of the Cripps proposals?

- a. Its desire to divide the country
- b. The formation of an interim government
- c. Its refusal to handover effective power to Indians
- d. Refusal to release all the arrested National leaders

கிரிப்ஸ் செயற்குறிப்புகள் நிராகரிக்கப் பட்டதற்கு காரணம் யாது?

- a. நாட்டை பிளவுபடுத்த விரும்பியது
- b. இடைக்கால அரசாங்கம் அமைப்பது

THE IMPACT IAS ACADEMY

- c. இந்தியர்களுக்கு பலமான அதிகாரம் கொடுப்பதற்கு மறுப்பு
d. கைது செய்யப்பட்ட அனைத்து தேசிய தலைவர்களையும் விடுதலை செய்ய மறுப்பு

117. At which place was Chandra Sekhar Azad shot dead by the British Police?
a. Kanpur b. Allahabad c. Lucknow d. Amritsar

- எந்த இடத்தில் சந்திர சேகர் ஆசாத் பிரிட்டிஷ் காவல் துறையினரால் சுட்டுக் கொல்லப்பட்டார்?
a. கான்பூர் b. அலகாபாத் c. லக்னோ d. அமிர்தசரஸ்

118. Who is the heroine of the 1942 Quit India Movement?

- a. Dr. Annie Besant b. Sucheta Kripalani
c. Aruna Asaf Ali d. Sarojini Naidu

- 1942 ஆம் ஆண்டில் நடைபெற்ற வெள்ளையனே வெளியேறு இயக்கத்தின் வீராங்கனை யார்?
a. டாக்டர் அன்னிபெசண்ட் b. சிதேசா கிருபளானி
c. அருணா ஆசப் அலி d. சரோஜினி நாயுடு

119. The Indian National Army Chiefly consisted of

- a. Indian Civilians residing in Malaya, Singapore, Burma etc
b. Indian Soldiers who deserted British Government
c. The Indian Prisoners of war captured by the Japanese in Malaysia, Singapore, Burma etc.
d. None of these

- இந்திய தேசிய படையில் உள்ளடங்கியவர்கள்
a. மலேயா, சிங்கப்பூர் மற்றும் பர்மாவில் வாழ்ந்த இந்திய முடிமுறை சார்ந்தவர்கள்
b. பிரிட்டிஷ் அரசாங்கத்தை விட்டோடிய இந்திய சிப்பாய்கள்
c. ஜப்பானால் மலேயா, சிங்கப்பூர் மற்றும் பர்மாவில் கைப்பற்றப்பட்ட இந்திய போர் கைதிகள்
d. இவற்றுள் ஏதுவுமில்லை

120. The Doctrine of Panchasheela was first advocated by

- a. India and Myanmar b. India and USA
c. India and Indonesia d. India and Pakistan

- பஞ்ச சீலக் கொள்கையை முதன் முதலில் ஏற்றக் கொண்ட இரு நாடுகள்
a. இந்தியாவும் மியான்மாரும் b. இந்தியாவும் அமெரிக்காவும்
c. இந்தியாவும் இந்தோனேஷியாவும் d. இந்தியாவும் பாகிஸ்தானும்

121. Who is called First Citizen and Father of City?

- a. Chief Minister b. Commissioner c. Mayor d. Tahsildar

- மாநகராட்சியின் முதல் குடிமகன் மற்றும் தந்தை என அழைக்கப்படுபவர் யார்?
a. முதல்வர் b. ஆணையர் c. மேயர் d. வட்டாட்சியர்

122. Grama Sabha generally convenes how many times in a year

- கிராமசபை பொதுவாக ஒரு வருடத்திற்கு எத்தனை முறை கூடும்
a. 4 b. 1 c. 2 d. 3

THE IMPACT IAS ACADEMY

123. In Tamil Nadu the State Human Rights Commission was constituted in

தமிழ் நாட்டில் மாநில மனித உரிமைகள் ஆணையம் உருவாக்கப்பட்ட ஆண்டு

- a. 1997 b. 1998 c. 1999 d. 2000

124. Match the following

- A. 44th Amendment Act - 1. Delimitation of constituencies on basic of 2001 census
B. 61st Amendment Act - 2. Reservation of seats last until 2010
C. 79th Amendment Act - 3. Voting age reduced from 21-18
D. 87th Amendment Act - 4. Privileges of each house of Parliament its committees and members.

பொருத்துக:

- A. 44வது அரசியலமைப்பு சட்ட திருத்தம் 1. 2001 மக்கள் தொகை கணக்கெடுப்பு அடிப்படையில் தொகுதி மறு வரையறுத்தல்
B. 61வது அரசியலமைப்பு சட்ட திருத்தம் 2. 2010 வரை இட ஒதுக்கீடு தொடரும்
C. 79வது அரசியலமைப்பு சட்ட திருத்தம் 3. வாக்களிக்கும் வயது 21-18 ஆக குறைப்பு
D. 87வது அரசியலமைப்பு சட்ட திருத்தம் 4. பாராளுமன்றத்தின் ஒவ்வொரு அவையின் சிறப்பு நிலைகள், அதன் குழுக்கள் (ம) உறுப்பினர்கள்

	A	B	C	D
a.	2	3	1	4
b.	4	3	1	2
c.	3	1	4	2
d.	3	4	2	1

125. Match the following

- A. 24th Amendment Act - 1. Abolition of right to property
B. 42nd Amendment Act - 2. Anti-defection law
C. 44th Amendment Act - 3. Fundamental Duties
D. 52nd Amendment Act - 4. Supremacy of Parliament over fundamental rights

பொருத்துக:

- A. 24வது அரசியலமைப்பு சட்ட திருத்தம் 1. சொத்துரிமை நீக்கம்
B. 42வது அரசியலமைப்பு சட்ட திருத்தம் 2. கட்சிதாவல் தடைச்சட்டம்
C. 44வது அரசியலமைப்பு சட்ட திருத்தம் 3. அடிப்படைக் கடமைகள்
D. 52வது அரசியலமைப்பு சட்ட திருத்தம் 4. அடிப்படை உரிமைகள் மீதான பாராளுமன்ற அதிகாரம்

	A	B	C	D
a.	4	3	2	1
b.	3	4	2	1
c.	4	3	1	2
d.	1	4	3	2

THE IMPACT IAS ACADEMY

126. Which Article empower the President to dissolves the Lok Sabha at any time before completion of its tenure?

- a. Article 85 b. Article 95 c. Article 81 d. Article 91

அரசியலமைப்பு சட்டத்தின் எந்த ஷரத்து குடியரசு தலைவருக்கு பாராளுமன்றத்தின் கீழ் அவையை கலைக்க அதிகாரம் அளிக்கிறது?

- a. ஷரத்து 85 b. ஷரத்து 95 c. ஷரத்து 81 d. ஷரத்து 91

127. The procedure to amend the constitution has been incorporated in Article

- a. Article 365 b. Article 366 c. Article 367 d. Article 368

அரசியலமைப்பு சட்டதிருத்தத்திற்கான வழிமுறைகளை எந்த ஷரத்து விவரிக்கின்றது?

- a. ஷரத்து 365 b. ஷரத்து 366 c. ஷரத்து 367 d. ஷரத்து 368

128. In which year High Court of Madras was established?

சென்னை உயர் நீதிமன்றம் எந்த ஆண்டு நிறுவப்பட்டது?

- a. 1862 b. 1871 c. 1881 d. 1891

129. The committee appointed in 1977 to review working of the Panchayat Raj was chaired by

- a. Balwant Raj Mehta b. Ashok Mehta
c. K.N. Katju d. Jagjivan Ram

1977ஆம் ஆண்டு "பஞ்சாயத்து ராஜ்" குறித்து ஆய்வு செய்ய அமைக்கப்பட்ட குழுவின் தலைவர் யார்?

- a. பல்வந்தராய் மேத்தா b. அசோக் மேத்தா c. கே.என்.கட்ச d. ஜெக்ஜீவன் ராம்

130. The Implementation of "Jawahar Rozgar Yojana" rests with?

- a. Gram Panchayat b. District Collector c. State Government d. Union Government

"ஜவகர் ரோஜ்கர் யோஜனா" கீழ்க்கண்டவற்றுள் எவற்றின் கீழ் அமைக்கப்பட்டது

- a. கிராம பஞ்சாயத்து b. மாவட்ட ஆட்சியர்க்கு
c. மாநில அரசு d. மத்திய அரசு

131. A Started a wood business by investing Rs.50,000. After six months, B joined her with a capital of Rs.80,000. After 3 years, they earned a profit of Rs.24,500. What was A's share in the Profit?

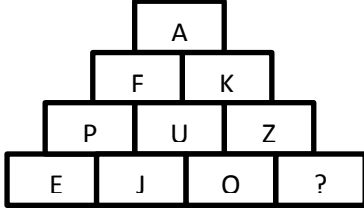
'A' என்பவர் ஒரு மர வர்த்தகத்தை ரூ.50,000 முதலீடு செய்வதன் மூலம் தொடங்குகிறார். ஆறு மாதங்கள் கழித்து 'B' என்பவர் ரூ.80,000 மூலதனத்துடன் A-யுடன் சேர்ந்து கொள்கிறார். 3 ஆண்டுகள் கழித்து, அவர்கள் ரூ.24,500 லாபம் சம்பாதிக்கிறார்கள். லாபத்தில் A-வின் பங்கு எவ்வளவு?

- a. Rs.9,423 b. Rs.10,250 c. Rs.12,500 d. Rs.10,500

THE IMPACT IAS ACADEMY

132. Identify the missing letter

விடுப்பட்ட எழுத்தை கண்டுபிடி



- a. R b. S c. T d. W

133. A and B can complete a work in 15 days and 10 days respectively. They started doing the work together but after 2 days B had to leave and A completed the remaining work. The whole work was completed in:

‘A’ மற்றும் ‘B’ முறையே ஒரு வேலையை 15 நாட்கள், 10 நாட்களில் செய்து முடிக்கின்றனர். அவர்கள் இருவரும் வேலை செய்யத் தொடங்கி இரு நாட்கள் கழித்து B விலகிக் கொள்கிறார், மீதமுள்ள வேலையை A மட்டும் தனியாக செய்து முடிக்கிறார். அந்த மொத்த வேலை எத்தனை நாட்களில் செய்து முடிக்கப்படும்?

- a. 8 days b. 10 days c. 12 days d. 15 days

134. Find out the missing term in the given alphabet series

பின்வரும் சொல் தொடர் வரிசையில் விடுப்பட்ட தொடர் என்ன?

AZ, GT, MN, ____, YB

- a. JH b. SH c. SK d. TS

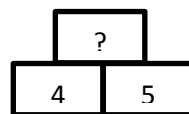
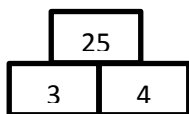
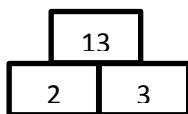
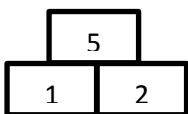
135. The average monthly income of A and B is Rs. 5050. The average monthly income of B and C is Rs.6250 and the average monthly income of A and C is Rs, 5200. The monthly income A is:

A மற்றும் B –யின் சராசரி மாத வருமானம் ரூ.5050. B மற்றும் C-ன் சராசரி வருமானம் ரூ.6250. A மற்றும் C-ன் சராசரி மாத வருமானம் ரூ.5,200 A-ன் மாத வருமானம் என்ன?

- a. Rs.3, 500 b. Rs.4, 000 c. Rs.4, 050 d. Rs.5, 000

136. Find the missing number in the place ‘?’

"?" குறியிட்ட இடத்தில் வரும் எண்ணைக் காண்க



- a. 41 b. 35 c. 30 d. 28

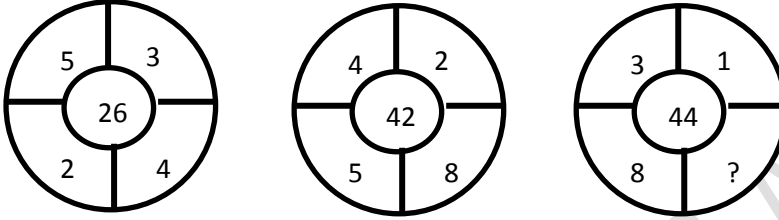
137. A fort had provision of food for 150 men for 45 days. After 10 days, 25 men left the fort. The number of days for which the remaining food will last is:

ஒரு துறைமுகம் 150 ஆட்களுக்கு 45 நாட்களுக்கு தேவையான உணவுக்குரிய பொருட் கையிருப்புக் கொண்டிருக்கிறது. 10 நாட்கள் கழித்து, 25 ஆட்கள் அத்துறைமுகத்தை விட்டுக் கிளம்பி விட்டனர். எஞ்சியிருக்கும் உணவு பின்வரும் எத்தனை நாட்களுக்குரிய போதுமானதாக இருக்கும்:

- a. 291/5 b. 371/4 c. 42 d. 54

138. Find the missing term

விடுபட்ட எண்ணைக் காண்க



- a. 12 b. 18 c. 16 d. 24

139. 4 men and 6 women can complete a work in 8 days. While 3 men and 7 women can complete, it in 10 days. In how many days will 10 women complete it?

4 ஆண்கள் மற்றும் 6 பெண்கள் ஒரு வேலையை 8 நாட்களில் செய்து முடிக்கிறார்கள் அதே வேலையை 3 ஆண்கள் மற்றும் 7 பெண்கள் 10 நாட்களில் முடிக்கிறார்கள். 10 பெண்கள் அந்த வேலையை செய்த முடிக்க எடுத்துக் கொள்ளும் நாட்கள்?

- a. 35 b. 40 c. 45 d. 50

140. Find the missing number

விடுபட்ட எண்ணைக் காண்க

25	7	18
35	13	22
45	8	?

- a. 22 b. 37 c. 28 d. 17

141. When was the Panchayat Raj system introduced in India?

பஞ்சாயத்து ராஜ் முறை இந்தியாவில் எந்த ஆண்டு கொண்டுவரப்பட்டது?

THE IMPACT IAS ACADEMY

- a. 1945 b. 1950 c. 1959 d. 1962

142. Which Article of the Constitution Provides the special provision to the State of Assam?

- a. Article 371-B b. Article 371-C c. Article 371-A d. Article 371-D

அஸ்ஸாம் மாநிலத்திற்கு சிறப்பு அந்தஸ்த்து வழங்குகின்ற அரசியலமைப்பு ஷரத்து எது?
a. ஷரத்து 371-B b. ஷரத்து 371-C c. ஷரத்து 371-A d. ஷரத்து 371-D

143. Under which Constitutional Amendment was the National Capital Territory Act enacted?

- a. 67th Amendment B. 68th Amendment C. 69th Amendment d. 70th Amendment

எந்த அரசியலமைப்பு சட்டத் திருத்தத்தின் கீழ் தேசிய தலைநகர் பிரதேச சட்டம் இயற்றப்பட்டது?

- a. 67வது அரசியலமைப்பு சட்ட திருத்தம் b. 68வது அரசியலமைப்பு சட்ட திருத்தம்
c. 69வது அரசியலமைப்பு சட்ட திருத்தம் d. 70வது அரசியலமைப்பு சட்ட திருத்தம்

144. Which of the following States in India has a separate constitution of its own?

- a. Andhra Pradesh b. Punjab c. Tamil Nadu d. Jammu & Kashmir

கீழ்க்கண்ட இந்திய மாநிலங்களில் தனக்கென தனி அரசியலமைப்பு சட்டம் கொண்டுள்ள மாநிலம் எது?

- a. ஆந்திர பிரதேசம் b. பஞ்சாப் c. தமிழ்நாடு d. ஜம்மு & காஷ்மீர்

145. Who was the Chairman of the official Language Commission in 1956?

- a. Sir. B.G. Kher b. Kothari c. Mudaliar d. Balwantraji Mehta

1956 ஆம் ஆண்டில் அலுவலக மொழிவாரியக் குழுவின் தலைவர் யார்?

- a. சர்.பி.ஜி.கெர் b. கோத்தாரி c. முதலியார் d. பல்வந்த்ராய் மேத்தா

146. Which of the following Amendment Act raised the age of retirement of a High Court Judge from 62 to 65 years

- a. 104th Amendment b. 101st Amendment c. 102nd Amendment d. 103rd Amendment

பின்வருவனவற்றில் உயர் நீதிமன்ற நீதிபதிகளின் ஓய்வு பெறும் வயது 62-லிருந்து 65 வரை உயர்த்திய சட்டத்திருத்தம் எது?

- a. 104வது சட்டதிருத்தம் b. 101வது சட்டதிருத்தம்
c. 102வது சட்டதிருத்தம் d. 103வது சட்டதிருத்தம்

147. Consider the following in reference to the constitution (73rd Amendment Act)

1. The Governor of a State constitutes a finance commission every Fifth year to review the financial position of the Panchayats under Article 243-I of the Constitution of India.
2. The Superintendence, direction and control of all elections to the Panchayats are vested in a State Election Commission under Article 243-K of the constitution of India.

Which of the statement given above is/are correct?

THE IMPACT IAS ACADEMY

கீழ்க்கண்ட அரசியலமைப்பு தொடர்பான கூற்றுகளை கருத்தில் கொள்க (73வது அரசியலமைப்பு திருத்த சட்டம்)

1. இந்திய அரசியலமைப்பு விதி 243-இன் படி மாநில ஆளுநர் ஒவ்வொரு ஐந்தாண்டிலும், பஞ்சாயத்தின் நிதி நிலையினை மறு ஆய்வு செய்ய ஒரு நிதி ஆணையத்தை ஏற்படுத்துகிறார்.
2. இந்திய அரசியலமைப்பு விதி 243-k இன் படி பஞ்சாயத்து தேர்தலை கண்காணித்தல், வழிகாட்டுதல் மற்றும் கட்டுப்படுத்தல் போன்றவற்றை மாநில தேர்தல் ஆணையம் தன்னகத்தே வைத்துள்ளது.

கீழ்க்கண்டவற்றில் எது சரி?

- a. 1 only b. 2 only c. Both 1 and 2 d. Neither 1 nor 2

148. The Revenue Court in the State deals with which among the following case?

- a. Cases of Patta transfer appeal b. Cases of tenancy laws
c. Cases of stamp duty d. Cases of 'UDR' correction

மாநிலத்தில் உள்ள வருவாய் நீதிமன்றம் கீழ்க்காணும் எந்த வழக்குகளில் தொடர்புடையது?

- a. பட்டா மாறுதல் மேல்முறையீடு வழக்குகள்
b. குடிவார உரிமை சட்ட வழக்குகள்
c. முத்திரைதாள் கட்டணம் வழக்குகள்
d. "நில உடமை மேம்பாடு திட்டம்" திருத்தம் வழக்குகள்

149. Arrange the following statements in chronological order:

1. The first round table conference was held in London
2. The non-co-operation movement was abruptly called off by Gandhiji, following the Chauri, Chaura incident
3. The resignation of congress Ministry was celebrated as Deliverance Day by Muslim League
4. The cabinet mission put forward a plan for the constitutional problem

கீழ்க்கண்ட வாக்கியங்களை கால வரிசைப்படுத்துக:

1. முதல் வட்டமேசை மாநாடு லண்டனில் நடைபெற்றது
2. ஒத்துழையாமை இயக்கத்தை செளரி செளரா நிகழ்ச்சியை தொடர்ந்து காந்தியடிகள் இடையிலேயே நிறுத்தினார்
3. காங்கிரசு அமைச்சர்கள் பதவி விலகலை, முஸ்லிம்லீக் விடுதலை நாளாக கொண்டாடியது
4. கேபினட் தூது குழு இந்தியாவின் அரசியலமைப்பு சிக்கலுக்கு ஒரு தீர்வை முன் வைத்தது

- a. 1, 2, 4, 3 b. 2, 1, 3, 4 c. 3, 1, 2, 4 d. 4, 3, 1, 2

150. The Prime Minister of England when India got freedom was

- a. Atlee b. Churchill c. Mc Millan d. Lloyd George

இந்தியாவிற்கு விடுதலை அளித்த இங்கிலாந்து பிரதமர்

- a. அட்லி b. சர்ச்சில் c. மாக்மில்லன் d. லாயில் ஜார்ஜ்