


# ARIVU TNPSC STUDY CENTRE

ALATHUR-[near] KALLAKURICHI

VILUPURAM-[Dt]

Cell-8807745010,9159393181 rarivutnpsc@gmail.com

WWW.FACEBOOK.COM/ARIVU TNPSC STUDY CENTRE - KALLAKURICHI



**GROUP-IV MODEL EXAM**

**30-10-2016**

விரைவில் உதயம் - [www.arivutnpsc.com](http://www.arivutnpsc.com)

**GENERAL TAMIL AND GENERAL STUDIES- 200 MARKS**

Name of The Exam  
Subject  
Time  
Marks[300]  
Date

- GROUP - IV Model Exam  
- General studies + general tamil  
- 3 hours  
- 1x300=300  
- 30.10.2016 - Sunday

1. பின்வருவனவற்றுள் 'திருநாவுக்கரசர்' பற்றி பொருந்தாத ஒன்றைத் தேர்க  
I. "சைவ உலகத்தின் செஞ்சூரியனு" - என்று அழைக்கப்படுகிறார்  
II. சைவத் திருமுறைகளில் முதல் ஏழு திருமுறைகள் அப்பரடிகள் பாடியதாகும்  
III. இவர், "என் கடன் பணி செய்து கிடப்பதே" என்னும் திருவாக்கைத் தந்தவரும் நடந்தவரும் ஆவார்  
IV. வாக்கீசர், அப்பரடிகள், தாண்டக வேந்தர், ஆளுடைய அரசு என்றும் புகழப்படுவார்  
[A] I [B] II [C] III [D] IV
2. ஐராதீஸ்வரர் கோவில் குறித்து கீழ்க்கண்டவற்றுள் தவறானது எது ?  
[A] தஞ்சை அரண்மனைக்கு சொந்தமானது  
[B] மத்தியத் தொல்பொருள் துறையினர் பாதுகாத்து வருகின்றனர்  
[C] இதனை "கலைகளின் விளைநிலம்" என்றும் கூறுவர்  
[D] எண்ணூறு ஆண்டுகளுக்கு முன் முதலாம் இராசராசசோழனால் கட்டப்பட்டது.
3. தேவையற்ற இடங்களில் வல்லின மெய்களை நீக்கி எழுதுக ?  
1. ஊறுகாய் வைத்தால் பழைய சோறு உள்ளே போகாதா  
2. படிக்காதப் பெண்ணினால் தீமை ! என்னப் பயன் விளைப்பாள் அந்த ஆமை  
3. இரவு பகல் பாராது படித்தும் தேர்ச்சி பெறவில்லையே  
4. சென்னைச் சென்றுத் திரும்ப எவ்வளவுச் செலவாகும்  
[A] 1 மற்றும் 3 [B] 1 மற்றும் 4  
[C] 2 மற்றும் 4 [D] 1, 2 மற்றும் 4
4. வெண்ணிப் பறந்தலை என்னும் போர்களத்தில் சேரன் பெருஞ்சேரலாதன் என்னும் அரசனுடன் போர் புரிந்த சோழ மன்னன் யார் ?  
[A] கரிகாலன் [B] ராசேந்திரன்  
[C] ராசராசன் [D] பிசிராந்தையார்
5. கார்டுலாம் நிறத்தான் கூறக் "காதலன்" உணர்த்துவான். காதலன் என்று (கம்பர்) யாரைக் கூறுகிறார்  
[A] இராமன் [B] கங்கை 'கோ' குகன்  
[C] இலக்குவன் [D] சொல்லின் செல்வன் அனுமன்
6. "தேனருவித் திரைஎழும்பி வானின்வழி ஒழுகும்  
செங்கதிரோன் பரிக்காலும் தேர்க்காலும் வழுகும்" - இப்பாடலில் குறிப்பிடப்பட்டுள்ள இலக்கணம் முறையே  
[A] உவமைத்தொகை, இரண்டாம் வேற்றுமைத்தொகை, பண்புத்தொகை, எண்ணும்மை, இயைபு  
[B] பண்புத்தொகை, இரண்டாம் வேற்றுமைத்தொகை, பண்புத்தொகை, எண்ணும்மை, இயைபு  
[C] உவமைத்தொகை, இரண்டாம் வேற்றுமைத்தொகை, பண்புத்தொகை, இயைபு  
[D] உவமைத்தொகை, பண்புத்தொகை, எண்ணும்மை, உம்மைத்தொகை
7. மரபுப் பிழைகளை அறிந்து தவறானதை நீக்குக  
1. தென்னை ஓலையால் கீற்றுப் பின்னுவார்கள்  
2. அம்பு வீசி மான்குட்டியைக் காயப்படுத்தினான்  
3. தோட்டத்தில் உள்ள வாழைச் செடி பார்க்க அழகாக உள்ளது  
4. கஞ்சி குடித்தால் காய்ச்சலுக்கு நல்லது  
[A] 1 மற்றும் 3 [B] 2 மற்றும் 3  
[C] 2 மற்றும் 4 [D] 1 மற்றும் 4

8. பின்வரும் "திருமூலர்" பாடல் வரிகளுள் பொருத்தமல்லாதது
1. அன்பும் சிவமும் இரண்டென்பர் அறிவிலார்
  2. கண்மூடி வழக்கமெலாம் மண்மூடிப் போக
  3. ஒன்றே குலம் ஒருவனே தேவன்
  4. தூய வெண்ணீறு துதைந்த பொன்மேனியும்
- [A] 1 மற்றும் 3 [B] 1 மற்றும் 4  
[C] 2 மற்றும் 4 [D] 1, 2 மற்றும் 4
9. பொருத்துக :
- |                    |                        |                     |
|--------------------|------------------------|---------------------|
| (a) தண்டமிழ் ஆசான் | (1) இளங்கோவடிகள்       | [A] (2) (3) (4) (1) |
| (b) அரசத்துறவி     | (2) வாணிதாசன்          | [B] (3) (4) (1) (2) |
| (c) கவிக்கோ        | (3) சீத்தலைச்சாத்தனார் | [C] (4) (3) (2) (1) |
| (d) பாவலர்மனி      | (4) அப்துல்காசிம்      | [D] (3) (1) (4) (2) |
10. பின்வரும் ஒலி வேறுபாடுகளில் பொருத்தமற்றது எது ?
- [A] ஊண் - உணவு ; ஊன் - நிணம்  
[B] முந்நாள் - முந்தைய நாள் ; முன்னாள் - மூன்று நாள்  
[C] தேநீர் - தேயிலை நீர் ; தேனீர் - தேன்போலும் இனிய நீர்  
[D] பரவை - கடல் ; புள் - பறவை
11. ஒரு புகழ் பெற்ற பெண்பாற்புலவர் கரும்பு சாகுபடியை குறுநில மன்னன் துணையுடன் தமிழகத்தில் அறிமுகம் செய்துவைத்தார் (பட்டியல் - I) யை (பட்டியல் II) - ல் சரியான விடையைத் தேர்வு செய்க
- |                       |                       |
|-----------------------|-----------------------|
| <u>பெண்பாற்புலவர்</u> | <u>குறுநில மன்னன்</u> |
| (a) நச்செள்ளையார்     | (1) பாரி              |
| (b) ஒளவையார்          | (2) திருமுடிக்காரி    |
| (c) காக்கைபாடினியார்  | (3) ஆய்வேல்           |
| (d) பாண்டிமா தேவி     | (4) அதியமான்          |
- [A] A-1 [B] B-4 [C] C-1 [D] D-2
12. பொருத்துக :
- |                         |                      |
|-------------------------|----------------------|
| <u>பட்டியல் - I</u>     | <u>பட்டியல் - II</u> |
| (a) அடியார்க்கு நல்லார் | (1) நன்னூல்          |
| (b) இளம்பூரனார்         | (2) திருக்குறள்      |
| (c) பரிமேலழகர்          | (3) சிலப்பதிகாரம்    |
| (d) மயிலைநாதர்          | (4) தொல்காப்பியம்    |
- (a) (b) (c) (d)  
[A] (3) (4) (2) (1)  
[B] (2) (3) (4) (1)  
[C] (3) (4) (1) (2)  
[D] (4) (3) (1) (2)
13. ஆங்கிலச் சொற்களை நீக்கித் தமிழ்ச் சொற்களைப் பயன்படுத்தி எழுதுக ?  
(பின்வருவனவற்றுள் சரியானதைத் தேர்ந்தெடுத்து எழுதுக)
1. பள்ளி விட்டதும் ஆசிரியர் வரிசையாக செல்லுமாறு அறிவுரை வழங்கினார்
  2. முதல் அட்டெம்ப்ட் பாஸ் என்றால் சக்ஸஸ்தான்
  3. இந்த பூங்கொத்துக் கொடுத்து அழைத்து வா
  4. ரெயின் வாட்டர் ஹார்வெஸ்ட் பற்றி எல்லாருக்கும் சொல்வோம்
- [A] 1 மற்றும் 3 [B] 1 மற்றும் 4  
[C] 2 மற்றும் 4 [D] 1, 2 மற்றும் 4

14. தோலுக்காக பாம்புகள் கொல்லப்படுவதை எந்த ஆண்டு தடைச்சட்டம் கொண்டுவரப்பட்டது  
 [A] வன விலங்குப் பாதுகாப்புச்சட்டம், 1972  
 [B] வன விலங்குப் பாதுகாப்புச்சட்டம், 1984  
 [C] வன விலங்குப் பாதுகாப்புச்சட்டம், 1988  
 [D] வன விலங்குப் பாதுகாப்புச்சட்டம், 1979
15. "மேல்சாதி - கீழ்ச்சாதி வேற்றுமை, தீண்டாமைக் கொடுமைகள் அகல, எல்லாருக்கும் கல்வி அவசியம்; எல்லாரும் கல்வி பெற வேண்டும். என்று கூறியவர்  
 [A] மகாத்மா காந்தி [B] சட்ட மாமேதை டாக்டர்.அம்பேத்கர்  
 [C] மகாகவி பாரதியார் [D] ஈ.வெ.ராமசாமி
16. கீழ்க்காணும் தொடர்களில் காணப்படும் கொச்சைச் சொற்களை நீக்கி எழுதுக ?  
 1. தலைக்கு சீக்கா தேச்சு முழுவனா ஒடம்புக்கு குளிர்ச்சி  
 2. நெல்லுச்சோறு வயிறுக்கு நோய் தராது  
 3. பொண்ணு கண்ணாலத்துக்கு சீர் செனத்தி சேத்து வச்சிருக்கியா  
 4. வானம் பார்த்த பூமியில் மழை பொழிந்து பல வருடமாயிற்று  
 [A] 1 மற்றும் 3 [B] 1 மற்றும் 4  
 [C] 2 மற்றும் 4 [D] 1 மற்றும் 2
17. உழைக்கும் மக்களின் துயரங்களையும் பொதுவுடைமைச் சிந்தனைகளையும் தமது பாடல்கள் வழிப் பரவலாக்கியவர் யார் ?  
 [A] உடுமலை நாராயணக்கவி  
 [B] பட்டுக்கோட்டை கல்யாணசுந்தரம்  
 [C] திரு.வி.கல்யாணசுந்தரம்  
 [D] மேலக்குடிகாடு அ.மருதகாசி
18. கீழ்க்கண்ட கூற்றுகளை ஆராய்க ?  
 1. எல்லா எழுத்துகளுக்கும் அடிப்படையானது ஒளி  
 2. அ, இ, உ - சுட்டும் எழுத்துக்கள் (உ) தற்போது பயன்பாட்டில் இல்லை  
 3. எ, யா, ஆ, ஒ, ஏ ஆகியவை வினா எழுப்பும் எழுத்துக்கள்  
 4. சொல்லின் முதலிலும் இறுதியிலும் நின்று வினாப்பொருள் தருவது - ஏ  
 [A] 1 மற்றும் 3 சரி [B] 1 மற்றும் 4 சரி  
 [C] 2, 3 மற்றும் 4 சரி [D] 1 மற்றும் 2 சரி
19. பொருத்துக :  
 (a) காவல் கோட்டம் (1) சு.வெங்கடேசன் (a) (b) (c) (d)  
 (b) கொற்கை (2) ஜோடி. குரூஸ் [A] (1) (3) (4) (2)  
 (c) அஞ்ஞாடி (3) ஆர்.மாதவன் [B] (3) (4) (1) (2)  
 (d) இலக்கிய சுவடுகள் (4) பூமணி [C] (4) (1) (2) (3)  
 [D] (1) (2) (4) (3)
20. கீழ்க்காணும் பட்டியலில் உள்ள சங்க நூல்களில் "கரிகால்" சோழனைப் பற்றிது எது ?  
 [i] பொருநராற்றுப்படை [ii] கலித்தொகை [iii] மதுரைக்காஞ்சி  
 [iv] பட்டினப்பாலை [v] சிலப்பதிகாரம் [vi] மணிமேகலை  
 [vii] திருமுருகாற்றுப்படை [viii] பதிற்றுப்பத்து  
 [A] I மட்டும் IV [B] III மட்டும் IV  
 [C] III மட்டும் VIII [D] IV மட்டும் VII

21. கீழ்காணும் தொடர்களில் காணும் பிழைகளை திருத்தி எழுதுக ?  
 [I] பேருந்து நிறுத்துமிடத்தில் பள்ளிக்கூடம் இருக்கிறது  
 [II] இன்னும் நம் நாட்டில் பெறுவாரியான மக்கள் உள்ளார்கள்  
 [III] ஏறிகளில் மலைநீர் சேமித்தாள் கிணறுகளில் நீர் வற்றாது  
 [IV] கொஞ்சம் வென்னி வைத்துத் தந்தால் எண்ணை தேய்த்துக்கொள்வேன்  
 [A] I, III சரி [B] II, IV சரி  
 [C] III, IV சரி [D] I, II சரி
22. ஒலி வேறுபாடறிந்து சரியான பொருளைத் தேர்க  

	வாலை	வாழை	வாளை
[A]	மீன்வகை	மரவகை	இளம்பெண்
[B]	இளம்பெண்	செடிவகை	மீன்வகை
[C]	இளம்பெண்	மரவகை	மீன்வகை
[D]	மீன்வகை	கொடிவகை	இளம்பெண்
23. பின்வரும் இணைகளில் தவறான ஒன்றைத் தேர்க ?  
 [A] ஒரு சொல்லோ தொடரோ இருபொருள் தருமாறு பாடுவது சிலேடை  
 [B] வான்வழியே நினைத்த இடத்துக்குச் செல்லும் சித்தர் கடுவெளி சித்தர்  
 [C] மறுத்தல் அரை குறையாக இருந்து பயன் இல்லை ; உறுதியாக இருக்க வேண்டும் பெரியார்  
 [D] "தண்ணீர் விட்டோ வளர்த்தோம், கண்ணீரால் காத்தோம்" என்பது பாரதி வாக்கு
24. பின்வருவனவற்றுள் சரியானதைத் தேர்ந்தெடு  
 I. தமிழிலக்கிய வரலாற்றில் முதல் முதலாக காப்பியம் எனச் சிறப்புறத் தோன்றியது தொல்காப்பியம்  
 II. குடிமக்களில் ஒருவன் கோவலன் ; பரத்தையில் ஒருத்தி மாதவி இவர்களின் சிக்கல் வாழ்க்கையே சிலப்பதிகாரம்  
 III. வடமொழியில் "ஆதி காவியம்" எனப் புகழப்படுவது கம்பராமாயணம்  
 IV. "வஞ்சிமா நகர் போல அழகிய தலைவி" பாஞ்சாலி (திரௌபதி)  
 [A] I மற்றும் II சரி [B] III மற்றும் IV சரி  
 [C] I மற்றும் IV சரி [D] II மற்றும் IV சரி
25. தாம் ஈடுபடும் விடுதலைப் போராட்டப் பணிகளுக்கு "இல்லறவாழ்வு" இடையூறாகுமெனக் கருதி திருமண வாழ்வை தவிர்த்தவர் யார் ?  
 [A] கே.காமராசர் [B] காத்தவராயன் (அய்யோத்திதாசர்)  
 [C] பேரறிஞர் அண்ணா [D] முத்துராமலிங்க தேவர்
26. எனக்கு மிகவும் பிடித்தமானவர் \_\_\_\_\_, அவருடைய ஆங்கிலம் அருமையானது, அறிவு பூர்வமான எழுத்து அவருடையது என்று ஜவஹர்லால் நேரு யாரை புகழ்ந்து கூறினார்  
 [A] டால்ஸ்டாய் [B] பெர்னாட் ஷா  
 [C] பெட்ரண்ட் ரஸ்ஸல் [D] கிருபாளினி
27. பொருத்துக :  

		(a)	(b)	(c)	(d)	
[1] தமிழின்பம்	(1) கல்கி ரா.கிருஷ்ணமூர்த்தி	[A]	(4)	(3)	(2)	(1)
[2] அலைஒசை	(2) ரா.பி.சேதுப்பிள்ளை	[B]	(1)	(3)	(2)	(4)
[3] வீரர் உலகம்	(3) ராஜகோபாலாச்சாரி	[C]	(2)	(1)	(4)	(3)
[4] சக்கரவர்த்தி திருமகன்	(4) கி.வா.ஜெகநாதன்	[D]	(2)	(4)	(1)	(3)
28. 'வானாளாவிய புகழுக்குரியவன்' மகளிரால் "செவ்வேள்" என்று பாராட்டும் அழகுக்குரியவன் யார் ?  
 [A] கோவலன் [B] செங்குட்டுவன்  
 [C] நெடுஞ்சேரலாதன் [D] இராமன்



29. ஆயபாலை, வட்டபாலை, திரிகோணபாலை, சதுரபாலை என்ற நான்கும்  
 [A] சித்த மருத்துவ முறைகள்  
 [B] தமிழ் இசை முறைகள்  
 [C] கடல் கொண்ட குமரிக்கண்ட ஊர்கள்  
 [D] பழந்தமிழர் மேற்கொண்ட சித்த மருத்துவ முறைகள்
30. பின்வரும் ஒரேழுத்து ஓர் மொழியில் தவறானதைத் தேர்க  
 [A] ஆ - பசு, மா - விலங்கு, கா-(கான்) - காடு  
 [B] ஊ - இறைச்சி, ஏ - அம்பு, ஐ - அழகு  
 [C] கா - சோலை (காத்தல்), கூ - பூமி (நிலம்), சா - சாதல் (சோர்வு)  
 [D] த - கொடு, தி - நெருப்பு, பா - சாபம்
31. பின்வருவனவற்றுள் தவறான இணையைத் தேர்க  
 [A] பாரதிதாசனாரின் தலை மாணாக்கர் - சுப்புரத்தினதாசன் (சுரதா)  
 [B] பாரதிதாசனிடம் தொடக்க கல்வி பயின்றவர் - வாணிதாசன்  
 [C] பாரதிதாசன் பரம்பரையில் மூத்த தலைமுறைக் கவிஞர் - கவியரசு முடியரசன்  
 [D] பாரதிதாசனின் கடைசி சீடர் - வண்ணதாசன்
32. பின்வருவனவற்றுள் சரியான இணையைத் தேர்க  
 I. கொற்கை முத்தை சிறப்பிக்கும் நூல் - சிறுபாணாற்றுப்படை, மதுரைக்காஞ்சி  
 II. கரிகாலனின் முன்னோர் காற்றின் போக்கினை அறிந்து கலம் செலுத்திய செய்தி - புறநானூறு  
 III. யவனர்கள் பொண்ணுக்கு ஈடாக மிளகை ஏற்றிச்சென்ற செய்தி - அகநானூறு  
 IV. பாண்டிய நாட்டின் வளம் பெருக்கியது கொற்கைத் துறைமுகம்  
 [A] I மற்றும் II சரி [B] III மற்றும் IV சரி  
 [C] I மற்றும் IV சரி [D] I, II, III மற்றும் IV சரி
33. பின்வருவனவற்றுள் பொருத்தமற்றதைத் தேர்ந்தெடு  
 [A] சூரியன் - ஞாயிறு, கதிரவன், மாலி, பரிதி  
 [B] வயல் - செய், கழனி, பழனம்  
 [C] பாட்டு - பா, கவிதை, யாப்பு  
 [D] குழந்தை - மகவு, குழவி, சேய்
34. அகநானூற்று பாடல்களின் அடிவரையறை, தொகுப்பித்தவர், தொகுத்தவர் முறையே  
 [A] 13 - 31 அடிவரை, உக்கிர பெருவழுதி, உருத்திர சன்மர்  
 [B] 13 - 31 அடிவரை, சேரல் இரும்பொறை, கூடலூர் கிழார்  
 [C] 13 - 31 அடிவரை, உருத்திர சன்மர், உக்கிர பெருவழுதி  
 [D] 13 - 31 அடிவரை, உக்கிர பெருவழுதி, பூரிக்கோ
35. பொருத்துக :  
 (a) குறிஞ்சி (1) சாதாரி  
 (b) முல்லை (2) செவ்வழி  
 (c) மருதம் (3) குறிஞ்சிப்பண்  
 (d) நெய்தல் (4) மருதப்பண்  
 (a) (b) (c) (d)  
 [A] (2) (3) (4) (1)  
 [B] (3) (1) (4) (2)  
 [C] (2) (1) (4) (3)  
 [D] (3) (2) (4) (1)

36. திருமணம் முதலிய மங்கல நிகழ்ச்சிகளுக்குக் கீற்று வேய்வதனைக் கொட்டகை என்பது \_\_\_\_\_  
[A] வைணவர் மரபு [B] செட்டி நாட்டு மரபு  
[C] ஆம்பூர் வட்டத்தார் மரபு [D] சீரங்கம் கோவில் மரபு

37. பொருத்துக :

- |                          |                      |
|--------------------------|----------------------|
| (a) எரிசினக்கொற்றவை      | (1) ரௌத்திர துர்க்கை |
| (b) யாழினும் நன்மொழியாள் | (2) மீனாட்சி         |
| (c) தேன்மொழிப்பாவை       | (3) வீணாமதுரபாவிணி   |
| (d) அங்கயற்கண்ணி         | (4) மதுரவசனி         |

(a) (b) (c) (d)

[A] (1) (3) (4) (2)

[B] (2) (4) (1) (3)

[C] (1) (2) (3) (4)

[D] (1) (2) (4) (3)

38. பின்வருவனவற்றில் "செய்வினை" வாக்கியத்தை தேர்ந்தெடு

- மாணவர்கள் வகுப்பை தூய்மை செய்தனர்
- தச்சன் நாற்காலி செய்தான்
- வகுப்பு, மாணவர்களால் தூய்மை செய்யப்பட்டது
- நாட்டுப்பற்று நாடகக் கலைஞர்களால் வளர்க்கப்பட்டது

[A] 1 மற்றும் 3

[B] 1 மற்றும் 4

[C] 2 மற்றும் 4

[D] 1 மற்றும் 2

39. பொருத்துக :

- |                       |                        |                     |
|-----------------------|------------------------|---------------------|
| (a) மணிமேகலை          | (1) கிருஷ்ணப்பிள்ளை    | (a) (b) (c) (d)     |
| (b) தேவாரம்           | (2) உமறுப்புலவர்       | [A] (2) (3) (4) (1) |
| (c) சீராப்புராணம்     | (3) சுந்தரர்           | [B] (4) (3) (1) (2) |
| (d) இரட்சணியயாத்ரிகம் | (4) சீத்தலைச்சாத்தனார் | [C] (4) (3) (2) (1) |
|                       |                        | [D] (1) (2) (3) (4) |

40. உவமையால் விளக்கப்பெறும் பொருளை தேர்க ?

"உடுக்கை இழந்தவன் கை போல"

[A] இடுக்கண் களைபவர்

[B] இடுக்கண் செய்பவர்

[C] இடுக்கண் உணர்பவர்

[D] இடுக்கண் தருபவர்

41. பொருத்துக :

- |             |               |                     |
|-------------|---------------|---------------------|
| (a) காகம்   | (1) கரையும்   | (a) (b) (c) (d)     |
| (b) குதிரை  | (2) கனைக்கும் | [A] (2) (3) (4) (1) |
| (c) சிங்கம் | (3) முழங்கும் | [B] (4) (3) (1) (2) |
| (d) குயில்  | (4) கூவும்    | [C] (3) (1) (4) (2) |
|             |               | [D] (1) (2) (3) (4) |

42. பொருத்தமல்லாதது எது ?

- |                      |           |
|----------------------|-----------|
| எழுவகைப் பருவ மகளீர் | வயது      |
| [A] அரிவை            | - 20 - 25 |
| [B] பெதும்பை         | - 12 - 13 |
| [C] பேரிளம் பெண்     | - 33 - 40 |
| [D] மடந்தை           | - 14 - 19 |

43. "அடிநா அடியணம் உறயத் தோன்றும்" நன்னூல் விதிப்படி தோன்றுவது ?

[A] ய்

[B] ல்

[C] வ்

[D] ற், ன்

44. சிறப்புப் பெயர்களை ஆசிரியர்களோடு பொருத்துக

<u>பாடல்கள்</u>	<u>பாடியவர்கள்</u>	(a)	(b)	(c)	(d)	
(a) நெடுந்தேர் ஊர்மதி வலவ	(1) புறநானூறு	[A]	(3)	(4)	(2)	(1)
(b) நல்லது செய்த லாற்றீ ராயினும்	(2) நற்றிணை	[B]	(4)	(3)	(1)	(2)
(c) நன்றே நம்பி குடிவாழ்க்கை	(3) அகநானூறு	[C]	(3)	(1)	(4)	(2)
(d) வாழாளாதல் நற்கறிந்தனை சென்மே	(4) கம்பராமாயணம்	[D]	(1)	(2)	(3)	(4)

45. கீழ்க்கண்டவற்றுள் பொருத்தமற்றது எது ?

[A] களிற்று யானை நிறை	- 120
[B] மணிமிடை பவளம்	- 180
[C] நித்திலக் கோவை	- 100
[D] கம்பன் சொன்ன வண்ணம்	- 90

46. பொருத்துக :

<u>சிறப்புப்பெயர்</u>	<u>இயற்பெயர்</u>	(a)	(b)	(c)	(d)	
(a) கவிராட்சசன்	(1) நம்பியாண்டார் நம்பி	[A]	(2)	(3)	(4)	(1)
(b) திவ்வியகவி	(2) சுப்ரமணியபாரதியார்	[B]	(4)	(3)	(1)	(2)
(c) தமிழ் வியாசர்	(3) பிள்ளை பெருமாள் ஐயங்கார்	[C]	(4)	(3)	(2)	(1)
(d) கலைமகள்	(4) ஒட்டக்கூத்தர்	[D]	(2)	(4)	(1)	(3)

47. பின்வருவனவற்றுள் "பிறவினை" வாக்கியம் அல்லாதது

[A] திருத்தினான்	[B] திருந்தினான்
[C] உழுவித்தார்	[D] ஆட்டுவித்தார்

48. பொருத்துக :

<u>நூல்</u>	<u>தொகுத்தவர்</u>
(a) பன்னிருதிருமுறைகள்	(1) யாரெனத்தெரியவில்லை
(b) நாலாயிரதிவ்வியபிரபந்தம்	(2) பதுமனார்
(c) நாலடியார்	(3) நம்பியாண்டார் நம்பி
(d) தமிழ்விடுதூது	(4) நாதமுனிகள்

(a)	(b)	(c)	(d)	
[A]	(3)	(4)	(2)	(1)
[B]	(4)	(1)	(3)	(2)
[C]	(3)	(1)	(4)	(2)
[D]	(4)	(2)	(3)	(1)

49. பின்வருவனவற்றுள் "ஆறுமுக நாவலர்" பற்றி பொருத்தமற்ற வரியைத் தேர்க

1. சைவத்தையும் தமிழையும் இரு கண்களாகப் போற்றியவர்	
2. தம் நூலில் நிறுத்தற் குறிகளை மிகுதியாகப் பயன்படுத்தியவர்	
3. வசனநடை கைவந்த வள்ளலார் என பரிதிமாற்கலைஞரை அழைத்தவர்	
4. சுப்ரமணிய தேசிகர் என்பாரிடம் "நாவலர்" என்ற பட்டம் பெற்றவர்	
[A] 1 மற்றும் 3	[B] 1 மற்றும் 4
[C] 2 மற்றும் 3	[D] 1 மற்றும் 2

50. காரியம் மிகப்பெரியது, எனது திறமை சிறியது, ஆசையால் இதனை எழுதி வெளியிடுகிறேன், பிறருக்கு ஆதர்சமாக அன்று ; வழிகாட்டியாக !" என்று \_\_\_\_\_ பாரதியார் எழுதியுள்ள முகவுரை சிந்தனைக்கு உரிய சிறந்த பகுதியாகும்.

[A] கண்ணன் பாட்டு	[B] பாஞ்சாலி சபதம்
[C] குயில் பாட்டு	[D] பாப்பா பாட்டு



51. "மாசில் மணிபல் லவம்தொழு தேத்தி வஞ்சியுட் புக்கு மாபத் தினிதனக்கு அடிக்கோடிட்ட வரி குறிப்பது ?  
[A] இராசமாதேவி [B] பாதபீடிகை  
[C] மணிமேகலை [D] கண்ணகி
52. "யாமறிந்த மொழிகளிலே தமிழ் மொழிபோல் இனிதாவ தெங்கும் காணோம்" எனப் பாடித் தமிழ்மொழியின் பெருமையை உலகறியச் செய்தவர்  
[A] பாரதியார் [B] பாரதிதாசன்  
[C] வாணிதாசன் [D] கண்ணதாசன்
53. பின்வருவனவற்றுள் "திருக்குறள்" பற்றி தவறானதைத் தேர்வ  
I. குறட்பா என்பது - ஈரடி வெண்பா  
II. அறத்துப்பாலில் உள்ள அதிகாரங்கள் எண்ணிக்கை - 38  
III. திருக்குறளில் அமைந்துள்ள இயல்கள் - 9  
IV. கொண்டாடப்பெறும் திருவள்ளுவராண்டின்படி அவர் வாழ்ந்த காலம் கி.பி - 31  
V. பொருட்பாலின் இயல்கள் - அரசியல், அங்கவியல், ஒழிபியல்  
VI. திருக்குறளின் பெருமையை உணர்த்துவது - திருவள்ளுவமொலை  
VII. வள்ளுவனைப் பெற்றதாற் பெற்றதே புகழ் வைகமே ! - பாரதிதாசன்  
[A] I தவறு [B] II சரி  
[C] III சரி [D] IV தவறு
54. பின்வருவனவற்றுள் "ஆனந்தரங்கர்" பற்றி பொருத்தமற்றது ?  
[A] ஆனந்தரங்கர் பிறப்பு -1709 ; அவருடைய ஆசிரியர் எம்பார்  
[B] 1922-1964 வரை நாட்குறிப்புகளை எழுதி வந்துள்ளார் (தினப்படி செய்திக்குறிப்பு, சொஸ்த லிகிதம்)  
[C] பிரெஞ்சுக்காரர்களுக்கும் இந்திய மன்னர்களுக்கும் இடையே பாலமாக இருந்தவர்  
[D] நாட்குறிப்பு இலக்கியத்தின் முன்னோடியாகத் திகழ்ந்த "பெப்பிசு" போன்று நாட்குறிப்பு எழுதியதால் இவரை "இந்தியாவின் பெப்பிசு" - "நாட்குறிப்பு வேந்தர்" என்றும் அறிஞர்கள் போற்றுகின்றனர்
55. பொருத்துக  
நிலம்  
பாடியோர்  
(a) குறிஞ்சி (1) அம்மூவனார்  
(b) முல்லை (2) ஓரம்போகியார்  
(c) மருதம் (3) பேயனார்  
(d) நெய்தல் (4) கபிலர்  
(e) பாலை (5) ஓதலாந்தையார்  
(a) (b) (c) (d) (e)  
[A] (4) (1) (2) (3) (5)  
[B] (4) (3) (1) (2) (5)  
[C] (4) (3) (2) (1) (5)  
[D] (1) (2) (3) (4) (5)
56. "டைஸ்" என்னும் \_\_\_\_\_ சொல்லுக்கு "நாள்" என்பது பொருள்.  
[A] கிரேக்கம் [B] இலத்தீன்  
[C] ஆங்கிலம் [D] தமிழ்
57. எளிய நடை, எளிய சந்தம், கொண்ட பெண்ணுரிமைக் காப்பியம் "பாஞ்சாலி சபதம்" பாகம், சருக்கம், பாடல்கள் முறையே  
[A] இரண்டு பாகம், ஐந்து சருக்கம் 402 பாடல்கள்  
[B] இரண்டு பாகம், ஐந்து சருக்கம், 412 பாடல்கள்  
[C] இரண்டு பாகம், ஐந்து சருக்கம், 612 பாடல்கள்  
[D] இரண்டு பாகம், ஐந்து சருக்கம், 602 பாடல்கள்

58. பொருத்துக :

பிறப்பு	அடியவர்கள்
(a) சீர்காழி	(1) சுந்தரர்
(b) திருவாமூர்	(2) திருநாவுக்கரசர்
(c) திருவாதவூர்	(3) மாணிக்கவாசகர்
(d) திருநாவலூர்	(4) திருஞானசம்பந்தர்
(a) (b) (c) (d)	
[A] (3) (4) (2) (1)	
[B] (4) (3) (1) (2)	
[C] (3) (1) (4) (2)	
[D] (4) (2) (3) (1)	

59. பொருத்தமற்றதைத் தேர்க் :

- [A] இந்திய நாட்டை, "மொழிகளின்காட்சிசாலை" (Museum Of Languages) எனக் குறிப்பிட்டுள்ளார் 'தடயவியல் நிபுணர்' - ச.அகத்தியலிங்கம்
- [B] திராவிடம் என்னும் சொல்லை முதன் முதலில் உருவாக்கியவர் குமரில்லபட்டர்
- [C] திராவிடம் என்னும் சொல்லை முதன் முதலில் பயன்பாட்டுக்கு கொண்டுவந்தவர் கால்டுவெல்
- [D] தமிழ் → திரமிள → திரவிட → திராவிட என உருவாயிற்று எனக் கூறியவர் ஈராஸ் பாதிரியார்

60. பின்வரும் வரிகளில் சரியானதைத் தேர்க்

- "கல்வி கண் திறந்தவர்", "தலைவர்களை உருபாக்குபவர்" - கர்மவீரர் கண்ணதாசன்.
  - "சிறைத்தண்டனைக்காக நீ வருந்துகிறாயா ?". என்று வள்ளியம்மையிடம் கேட்டவர் காமராசர்.
  - "அரசாட்சியை அடக்கத்தோடும் தந்திரத்தோடும் நாம் நோக்குதல் வேண்டும்"  
"முன்கோபமும் அதன் விளைவும் அரசியலில் ஒருபோதும் வெற்றியைத் தராது"  
"பகைவரை வெற்றி கொள்ள எப்போதும் ஆயத்த நிலையில் இருக்க வேண்டும்" கூறியவர் மங்கம்மாள்.
  - கதிரைவேலர் என்பாரிடம் தமிழ் பயின்று தமிழ்ப் பேராசிரியராக உயர்ந்தவர் திரு.வி.கல்யாணசுந்தரம்
- [A] 1 மற்றும் 3 [B] 1 மற்றும் 4  
[C] 3 மற்றும் 4 [D] 1 மற்றும் 2

61. பின்வரும் இலக்கணக்குறிப்பில் "வினையாலணையும் பெயர்" அல்லாதது ?

- [A] பற்றுவான், அஞ்சான், உணர்த்துவான்
- [B] அகழ்வார், இகழ்வார், ஒறுத்தார், செய்தாரை
- [C] உடையான், உரவோர், சூழ்வார், ஆள்வார்
- [D] மாதவர், தன்ஒன்னார், காழ்ப்ப இயற்றினார்

62. உவமையால் விளக்கப்பெறும் பொருளை அறிதல் "அத்தி பூத்தாற் போல"

- [A] எப்பொழுதாவது [B] எப்பொழுதும்
- [C] எதிர்பாராதது [D] எதிர்பார்த்தப்படி

63. பொருத்துக

பட்டியல் - I	பட்டியல் - II
(a) எயில் காத்தல்	(1) வஞ்சி
(b) எதிருன்றல்	(2) தும்பை
(c) வட்கார் மேற்செல்வது	(3) காஞ்சி
(d) அதிரப்பொருவது	(4) நொச்சி
(a) (b) (c) (d)	
[A] (3) (4) (2) (1)	
[B] (4) (3) (1) (2)	
[C] (3) (1) (4) (2)	
[D] (4) (2) (3) (1)	

64. கீழ்க்கண்டவற்றில் "புறநானூறு" வரி அல்லாததைத் தேர்வு செய்க

- [A] உறுமிடத்து துதவா உவந்நிலம்  
[B] களிறு எறிந்து பெயர்தல் காளைக்குக் கடனே  
[C] உழுதுண்டு வாழ்வாரே வாழ்வார்  
[D] உண்பது நாழி உடுப்பவை இரண்டே

65. பிரித்தலில் எது தவறானது

- [A] நற்கறிகள் = நன்மை + கறிகள்  
[B] இன்னமுது = இனிமை + அமுது  
[C] விதிர்ப்புற்றஞ்சி = விதிர்ப்பு + உற்று + அஞ்சி  
[D] பாவிசை = பா + விசை

66. "சிலப்பதிகாரம்" - கூறும் முப்பெரும் உண்மைகளில்லாதது

- [A] "அரசியல் பிழைத்தோர்க்கு அறங் கூற்றாகும்"  
[B] "உரைசால் பத்தினியை உயர்ந்தோர் ஏத்துவர்"  
[C] "அரும்பெறல் புதல்வனை ஆழியின் மடித்தோன்"  
[D] "ஊழ்வினை உருத்துவந்து ஊட்டும்"

67. பொருத்துக :

பட்டியல் I

பட்டியல் II

(a) (b) (c) (d)

- |            |                           |                     |
|------------|---------------------------|---------------------|
| (a) பண்பு  | (1) கூறியது மறாஅமை        | [A] (3) (4) (2) (1) |
| (b) அன்பு  | (2) பேதையார் சொல் நோன்றல் | [B] (4) (3) (1) (2) |
| (c) அறிவு  | (3) பாடறிந்து ஒழுகல்      | [C] (3) (1) (4) (2) |
| (d) செறிவு | (4) தன்கிளை செறா அமை      | [D] (3) (2) (4) (1) |

68. பின்வருவனவற்றுள் எது / எவை சரியெனக் காண்க

- I. "வேங்கை மரத்தின் கீழ் ஒரு பெண்தெய்வத்தைப் பார்த்தோம்" "பெண்தெய்வம்" யார் ? - மணிமேகலை  
II. "அப்பெண்ணின் வரலாற்றை யானறிவேன்" சீத்தலைச்சாத்தனார்  
III. இக்கதையைச் "சிலப்பதிகாரம்" என்னும் பெயரால் யாம் இயற்றுவோம் சாத்தனார்  
IV. "அடிகள் நீரே அருளுக" சாத்தனார்  
[A] I. II. III. மற்றும் IV சரியாக உள்ளது  
[B] I. சரியாகவும் II. III. IV தவறாகவும் கூறப்பட்டுள்ளது  
[C] I. மட்டும் தவறு மேலும் II. III. IV சரியாக உள்ளது  
[D] I. III மட்டும் தவறு II. IV சரியாக உள்ளது

69. கீழ்க்காணும் வரிகளில் பொருத்தமற்றதைத் தேர்வக :

- [A] மொரிசியஸ், மலேசியா, கனடா நாடுகளில் தமிழ் ஒரு பாடமாகக் கருதப்படுகிறது  
[B] சிங்கப்பூர், மலேசியா, நாடுகளில் தமிழ் ஆட்சிமொழியாகத் திகழ்கிறது  
[C] இலங்கை, மலேசியா, நாடுகளில் தமிழர்கள் ஆட்சிப் பொறுப்பில் உள்ளனர்  
[D] சிங்கப்பூர், மொரிசியஸ் நாடுகளில் குடியரசுத்தலைவராகவும் தமிழர் இருந்துள்ளனர்

70. பொருத்துக :

- [a] அலையோசை - (1) ராஜம் கிருஷ்ணன்  
[b] சித்திரப்பாவை - (2) அகிலாண்டம்  
[c] சமுதாய வீதி - (3) நா.பார்த்தசாரதி  
[d] வேருக்கு நீர் - (4) கல்கி

(a) (b) (c) (d)

- [A] (3) (2) (1) (4)  
[B] (4) (3) (1) (2)  
[C] (3) (1) (4) (2)  
[D] (4) (2) (3) (1)

71. பொருந்தாத ஒன்றைத் தேர்ந்தெடு : (ஆண்டாள்)  
 [A] மத்தளம் கொட்ட வரி சங்கம் நின்றூத  
 [B] கருப்பூரம் நாறுமோ கமலப்பூ நாறுமோ  
 [C] நாடாகு ஒன்றோ ; காடாகு ஒன்றோ  
 [D] ஆழிமழைக் கண்ணா ! ஒன்று நீ கைகரவேல்
72. கத்தோலிக்கத்திருச்சபையின் கொள்கைகளும் அறிவுரைகளும் கதை வடிவாக எந்த நூலில் இடம்பெற்றுள்ளது  
 [A] தேம்பாவணி [B] இரட்சணியயாத்திரிகம்  
 [C] கித்தேரியம்மாள் அம்மாளை [D] சதுரகராதி
73. பின்வருவனவற்றுள் எது / எவை சரியாக உள்ளது  
 I. "ஞாயிறு போற்றுதும் ஞாயிறு போற்றுதும்" - சிலப்பதிகாரம்  
 II. ஞாயிற்றைச் சுற்றிய பாதையை ஞாயிறு வட்டம். என்றனர் பழந்தமிழர் - புறநானூறு  
 III. "திங்களைப் பாம்பு கொண்டற்று" - திருக்குறள்  
 IV. புதிதாக கண்டறிந்த கோள் "புதன்" அதனை "காரிக்கோள்" என்றும் அழைப்பர்  
 [A] I, மட்டும் தவறு II, III, IV சரி  
 [B] I, II, சரியாக உள்ளது, III மட்டும் தவறாக உள்ளது மேலும் IV சரி  
 [C] I, II, தவிர்த்து III, IV மட்டும் சரியாக உள்ளது  
 [D] I, II, III மட்டும் சரியாக உள்ளது
74. "புனிதவதியார்" என்று அழைக்கப்படுபவர் \_\_\_\_\_  
 [A] ஔவையார் [B] ஆண்டாள்  
 [C] கோப்பெருந்தேவி [D] காரைக்கால் அம்மையார்
75. "கோது, - போது, - தாது" - சரியான பொருளைத் தேர்வு செய்க  
 [A] குற்றம், மலர், மகரந்தம்  
 [B] குற்றம், மகரந்தம், மலர்  
 [C] மகரந்தம், மலர், குற்றம்  
 [D] மலர், மகரந்தம், குற்றம்
76. எனக்கு வறுமையும் உண்டு ; மனைவி மக்களும் உண்டு ; அவற்றோடு மானமும் உண்டு  
 [A] திரு.வி.கல்யாணசுந்தரம் [B] மு.வரதராசன்  
 [C] தேவநேயப்பாவாணர் [D] முடியரசன்
77. "வான்பெற்ற நதிகமழ்தாள் வணங்கப் பெற்றேன்  
 மதிபெற்ற திருவுளத்தால் மதிக்கப் பெற்றேன்" இவ்வரியில் உள்ள இயைபு தேர்க  
 [A] பெற்றேன் - பெற்றேன்  
 [B] வான்பெற்ற - மதிபெற்ற  
 [C] வணங்கப் - மதிக்கப்  
 [D] திருவுள்ளம் - நதிகமழ்
78. கீழுள்ள தொடர்களில் உரிய ஆகுபெயர்ச் சொற்களை நிரப்புதலில் சரியானதைத் தேர்க ?  
 1. உடைந்த ஏரியைப் பார்க்க \_\_\_\_\_ திரண்டு வந்தது. (ஊரே)  
 2. இவ்வாடைகளை \_\_\_\_\_ ஒன்றாகக் கொடு (மாணவர்களுக்கு)  
 3. தைப் பொங்கலுக்கு \_\_\_\_\_ அடிப்பர். (வெள்ளை)  
 4. தேன்மொழி \_\_\_\_\_ சூடி வந்தாள். (மல்லிகைப்பூ)  
 [A] 1 மற்றும் 3 [B] 2 மற்றும் 3  
 [C] 2 மற்றும் 4 [D] 1 மற்றும் 4

79. பொருத்துக :
- |                         |                         |                     |
|-------------------------|-------------------------|---------------------|
| (a) மதங்க தூளாமணி       | (1) காசிவிசுவநாதர்      | [A] (3) (1) (4) (2) |
| (b) டம்பாச்சாரி விலாசம் | (2) சூரியநாராயணசாஸ்திரி | [B] (4) (3) (1) (2) |
| (c) மறைவழி              | (3) விபுலானந்தர்        | [C] (3) (1) (2) (4) |
| (d) நாடகவியல்           | (4) லார்ட் லிட்டன்      | [D] (4) (3) (2) (1) |
80. பின்வருவனவற்றுள் பொருந்தாதவை எதுவெனத் தேர்ந்தெடு
- |                    |                     |
|--------------------|---------------------|
| [A] கபிலன் வந்தான் | - எழுவாய்த்தொடர்    |
| [B] கதிரவா ! வா.   | - விளி வேற்றுமை     |
| [C] கண்டேன் சீதையை | - வினைமுற்றுத்தொடர் |
| [D] வந்து போனான்   | - வினையெச்சத்தொடர்  |
81. இதழியல் கலைச்சொற்களில் தவறானது
- |                |                    |
|----------------|--------------------|
| [A] Bulletin   | - குறித்த காலம்    |
| [B] Fake News  | - பொய்ச்செய்தி     |
| [C] Flash News | - சிறப்புச் செய்தி |
| [D] Folio No   | - இதழ் எண்         |
82. "நான்காம் தமிழ்ச்சங்கம் கண்டெடுத்த பாண்டித்துரை" மதுரையில் 1901-ல் எந்த பள்ளியில் துவக்கிவைத்தார்
- |                          |                             |
|--------------------------|-----------------------------|
| [A] வெஸ்லிப்பள்ளி        | [B] சேதுபதி உயர்நிலைப்பள்ளி |
| [C] மீ.ச.உயர்நிலைப்பள்ளி | [D] இவற்றில் எதுவுமில்லை    |
83. கீழ்க்கொடுக்கப்பட்டவற்றுள் சிறப்பு பெயர்களில் தவறானதைத் தேர்ந்தெடு
- |                                  |                        |
|----------------------------------|------------------------|
| (I) இக்கால ஓளவையார்              | - அசலாம்பிகை அம்மையார் |
| (II) தமிழகத்தின் அன்னிபெசன்ட்    | - இராமாமிர்தம்         |
| (III) திரைக்கவித் திலகம்         | - அ.மருதகாசி           |
| (IV) தமிழகத்தின் வேர்ட்ஸ் வொர்த் | - வாணிதாசன்            |
- |                 |                 |
|-----------------|-----------------|
| [A] I மட்டும்   | [B] II மட்டும்  |
| [C] III மட்டும் | [D] எதுவுமில்லை |
84. \_\_\_\_\_ பெருகும் தமிழ்ப்படித்தால்.
- |           |           |
|-----------|-----------|
| [A] திறம் | [B] அறம்  |
| [C] உரம்  | [D] புறம் |
85. "தமிழ் மாணவன்" என்று தம் கல்லறையில் எழுதவேண்டுமென்று இறுதிமுறியில் எழுதிவைத்தவர்
- |                |                       |
|----------------|-----------------------|
| [A] ஜி.யு.போப் | [B] மீனாட்சி சுந்தரம் |
| [C] திரு.வி.க  | [D] உ.வே.சாமிநாதன்    |
86. பின்வருவனவற்றுள் எது தவறு (மகாவித்துவான் - மீனாட்சிசுந்தரம் பிள்ளை )
- இளமையில் தமது தந்தையாரிடம் தமிழ் கற்றவர்
  - இலக்கிய இலக்கண நூல்களில் நன்கு புலமை பெற்றவர்
  - சிறுவயதிலேயே செய்யுள் இயற்றும் ஆற்றல் கைவரப் பெற்றவர்
  - தமிழ்ப்பாடம் சொல்லிச் சொல்லி மாணவர்களைத் தன் அன்பால் ஈர்த்தவர்
- |         |        |
|---------|--------|
| [A] I   | [B] II |
| [C] III | [D] IV |
87. கற்போரின் குற்றங்களை நீக்கி, அறம் பொருள் இன்பங்களை அடைவதற்கான வழிமுறைகளை அறவுரைகளாகக் கூறி நல்வழிப்படுத்துவது \_\_\_\_\_
- |                 |                      |
|-----------------|----------------------|
| [A] கலித்தொகை   | [B] புறநானூறு        |
| [C] திருக்குறள் | [D] முதுமொழிக்காஞ்சி |





88. எல்லா விளக்கும் விளக்கல்ல சான்றோர்க்குப்

\_\_\_\_\_, \_\_\_\_\_, \_\_\_\_\_. விடுபட்டதை தேர்ந்தெடுத்து எழுதுக.

- [A] வாய்மையின் நல்ல பிற.  
[B] வாய்மையால் காணப் படும்.  
[C] செய்யாமை செய்யாமை நன்று.  
[D] பொய்யா விளக்கே விளக்கு.

89. பொருத்துக

- (a) மானவிஜயம் (1) சங்கரதாசு  
(b) பவளக்கொடி (2) பரிதிமாற்கலைஞர்  
(c) பொன்விலங்கு (3) பம்மல் சம்மந்தனார்  
(d) அம்மாணை (4) சுவாமிநாத தேசிகர்

(a) (b) (c) (d)

- [A] (2) (1) (4) (3)  
[B] (2) (1) (3) (4)  
[C] (3) (1) (2) (4)  
[D] (1) (3) (2) (4)

90. பின்வரும் வரிகளில் தவறான ஒன்று

- [A] தன் கணவன் கள்வன் அல்லன்  
[B] அவன் கவிஞன் அல்லன்  
[C] வலப்பக்கச் சுவரில் எழுதாதே  
[D] கயிறுகட்டிலில் தன்னை மறந்து உறங்கினான்

91. பாபிலோனியாவில் "நிப்பூர்" என்ற ஊரில் \_\_\_\_\_ ஆண்டிற்கு முந்தைய சுமார் 2500 களிமண் பலகைகளில் எழுதப்பட்டிருந்த நூல்களின் தொகுப்பு கண்டெடுக்கப்பட்டது

- [A] கி.பி 2000 [B] கி.மு 2000  
[C] கி.பி 2500 [D] கி.மு 2500

92. பின்வரும் அணியில் தவறானவற்றை ஆராய்க ?

- புகழ்வதுபோலப் பழிப்பதும், பழிப்பது போலப் புகழ்வதும் வஞ்சப்புகழ்ச்சி அணி எனப்படும்.
- இயல்பாக நிகழும் நிகழ்ச்சியின்மீது கவிஞர் தம் குறிப்பினை ஏற்றிக் கூறுவது தற்குறிப்பேற்ற அணி
- ஒருசொல் இருபொருள்பட அமைந்து வருதல் இரட்டுறமொழிதல் எனப்படும்
- ஒரு சொல் தனித்து நின்று ஒரு பொருளையும், அதுவே பிரிந்து நின்று வேறொரு பொருளையும் தருமாறு அமைத்துப் பாடுவது செம்மொழிச்சிலேடை

- [A] 1 மற்றும் 3 [B] 2 மற்றும் 3  
[C] 2 மற்றும் 4 [D] எதுவுமில்லை

93. பின்வருவனவற்றுள் தவறான ஒன்றைத் தேர்க :

- [A] நெடுந்தொகை - அகநானூறு  
[B] வேளாண்வேதம் - முக்கூடற்பள்ளு  
[C] ஒத்த - பதிற்றுப்பத்து  
[D] ஓங்கு - பரிபாடல்

94. "ஆறில்லா ஊருக்கு \_\_\_\_\_ பாழ்"

- [A] புந்தி [B] கவின்  
[C] அறிவு [D] அனைத்தும்

95. "பயன் மரம் உள்ளூர்ப் பழுத்ததைப் போன்று"

- [A] ஒருவருக்கு மட்டும் பயன்படும் [B] இருவருக்கு மட்டும் பயன்படும்  
[C] அனைவருக்கும் பயன்படும் [D] பலருக்கும் பயன்படும்

96. பொருத்துக :

- |  |                        |
|--|------------------------|
| (a) இன்சொல் இனிதீன்றல் காண்பான் எவன்கொலோ     | (1) முற்றுமோனை         |
| (b) கற்க கசடறக் கற்பவை கற்றபின்              | (2) கூழைமோனை           |
| (c) விண்ணின்று பொய்ப்பின் விரிநீர் வியனுலகத் | (3) இணைமோனை            |
| (d) தானம் தவமிரண்டும் தங்கா வியனுலகம்        | (4) மேற்க்கதுவாய் மோனை |

(a) (b) (c) (d)

[A] (3) (1) (4) (2)

[B] (4) (3) (1) (2)

[C] (3) (1) (2) (4)

[D] (4) (3) (2) (1)

97. நூலகத்தின் பெயர்களில் தவறானதை காண்க ?

- |               |              |
|---------------|--------------|
| [A] ஏடகம்     | [B] பீடகம்   |
| [C] படிப்பகம் | [D] பண்டாரம் |

98. தளை ஏழு வகைப்படும் பின்வரும் தளைகளில் பொருந்தா ஒன்று :

- |                         |                      |
|-------------------------|----------------------|
| [A] மாமுன் நேர் வருவது  | - நேரொன்றாசிரியத்தளை |
| [B] கனிமுன் நேர் வருவது | - ஒன்றாத வஞ்சித்தளை  |
| [C] விளமுன் நிரை வருவது | - இயற்சீர் வெண்டளை   |
| [D] கனிமுன் நிரை வருவது | - ஒன்றிய வஞ்சித்தளை  |

99. சொற்றொடரில் அமைத்து எழுதுக ?

- [A] பெற்றோரின் எண்ணிக்கை குறைவாகவே இருந்தது, கல்வியறிவு பண்டைக்காலத்தில்.  
[B] பெற்றோரின் எண்ணிக்கை குறைவாகவே இருந்தது பண்டைக்காலத்தில் கல்வியறிவு.  
[C] கல்வியறிவு பண்டைக்காலத்தில் பெற்றோரின் எண்ணிக்கை குறைவாகவே இருந்தது.  
[D] பண்டைக்காலத்தில் கல்வியறிவு பெற்றோரின் எண்ணிக்கை குறைவாகவே இருந்தது.

100. "ஒருமையுடன் நினது திருமலரடி நினைக்கின்ற உத்தமர்தம் உறவு வேண்டும்"

- [A] 'இயற்கை கவிஞர்' இரவீந்தரநாத் தாகூர்  
[B] 'புரட்சித்துறவி' இராமலிங்க வள்ளலார்  
[C] 'வீரச்சிறுவன்' விவேகானந்தர்  
[D] 'கெட்டிக்காரர் சிறுவன்' ஈ.வெ.ராமசாமி நாயக்கர்

101. பாக்கைஸ்ட் தாதுவில் அலுமினிய உலோகம் உள்ளது. இவை இந்தியாவில் கிடைக்காத மாநிலம்

- |            |                       |
|------------|-----------------------|
| [A] ஒரிசா  | [B] தமிழ்நாடு (சேலம்) |
| [C] பீகார் | [D] கர்நாடகா          |

102. பின்வரும் கூற்றுகளை ஆய்க

- I. கிளைக்கோலிசிஸ் சைட்டோபிளாசத்தில் நடைபெறுகிறது
- II. லாங்கர்ஹான் திட்டுகள் கணையத்தில் காணப்படுகிறது
- III. எலும்பு மஜ்ஜை என்பது சிவப்பு அணுக்களின் தொட்டில்
- IV. த்ரோம்போபிளாஸ்டின் கல்லீரலுடன் தொடர்புடையது

- |                           |                        |
|---------------------------|------------------------|
| [A] I மட்டும் II சரி      | [B] III மட்டும் IV சரி |
| [C] I, II மற்றும் III சரி | [D] II மட்டும் IV சரி  |

103. நைட்ரஜனை நிலைப்படுத்தல் மூலம் கிடைப்பது

- [A] அநேக ஆக்ஸிஜன் சேர்மங்கள்  
[B] அநேக பாஸ்பரஸ் சேர்மங்கள்  
[C] அநேக நைட்ரஜன் சேர்மங்கள்  
[D] அநேக சல்பர் சேர்மங்கள்

SENCE-1999

104. கீழ்க்கண்ட வாக்கியங்களை கவனி  
 கூற்று : (A) இந்தியாவில் தொழில் முன்னேற்றத்திற்கான செயல் திட்டம் 1991 - ல் பெரும்  
 மாற்றத்தைக்கண்டது  
 காரணம் : (R) 1991 - வரை, புதிய கண்டுபிடிப்பு மற்றும் போட்டிக்கான வாய்ப்பு,  
 உற்பத்தியாளர்களுக்கு குறைந்தே காணப்பட்டது  
 [A] (A) மற்றும் (R) இரண்டும் சரியானதே மற்றும் (R), (A) வை விளக்கவில்லை  
 [B] (A) மற்றும் (R) இரண்டும் சரியானதே மற்றும் (R), (A) வை விளக்குகிறது  
 [C] (A) சரி (R) தவறு  
 [D] (A) மற்றும் (R) இரண்டும் தவறு
105. பின்வருவனவற்றை பொருத்துக :  
 [a] தெரசா மே 1. குடியரசுத்தலைவர் :பிரான்ஸ்  
 [b] பிராங்காஸ் ஹேலாண்டோ 2. பிரதம மந்திரி யூ.கே  
 [c] விளாடிமிர் புட்டின் 3. குடியரசுத்தலைவர் இரஷ்யா  
 [d] பிலிப் ஜெஸிந்தோ நியூசிலாந்து 4. குடியரசுத்தலைவர், மொசாம்பிக்  
 [A] a-3; b-2; c-4; d-1  
 [B] a-2; b-1; c-3; d-4  
 [C] a-1; b-4; c-3; d-2  
 [D] a-4; b-1; c-2; d-3
106. கீழ்க்கண்ட அனைத்து இணைகளும் இந்தியாவில் கல்வி வரலாறு மற்றும் அதன் வருடங்கள்  
 பற்றியது இதில் எது தவறான இணை ?  
 [A] ரேலி குழுவின் பரிந்துரைகள் - 1880-1882  
 [B] உட்ஸ் அறிக்கை - 1854  
 [C] ஹன்டர் குழு - 1882  
 [D] சார்ஜென்ட் கல்வி திட்டம் - 1944
107. கணினி பாதுகாப்பு சம்பந்தமான பிரச்சனை ஏற்படும் பொழுது செயல்படும் தேசிய ஒருங்கிணைப்பு  
 நிறுவனம் \_\_\_\_\_ ஆகும்.  
 [A] சிசிஏ (CCA) [B] சிஏடி (CAT)  
 [C] சிஇஆர்டி-ஐஎன் (CERT-In) [D] என்ஐசி (NIC)
108. பின்வரும் எந்த சீர்திருத்தத்தோடு "ஈஷ்வரசந்திரா வித்யாசாகர்" தொடர்புடையவர் ?  
 [A] குழந்தை திருமணத்தை தடைசெய்தல்  
 [B] உடன்கட்டை ஏறுதலை தடுத்தல்  
 [C] விதவைகள் மறுமணம்  
 [D] சிசுவதையை தடுத்தல்
109. தரவுகளின் அனைத்து பண்புகளையும் கூறுவது \_\_\_\_\_ ஆகும்  
 [A] பண்பு [B] படி  
 [C] டூப்பில் [D] டொமைன்
110. எந்த ஐந்தாண்டு திட்டத்தில் பி.சி.மஹலாநோபிஸ் அளித்த வளர்ச்சிக்கோட்பாடு பயன்படுத்தப்பட்டது ?  
 [A] 5 - வது ஐந்தாண்டு திட்டம்  
 [B] 4 - வது ஐந்தாண்டு திட்டம்  
 [C] முதலாவது ஐந்தாண்டு திட்டம்  
 [D] இரண்டாவது ஐந்தாண்டு திட்டம்
111. 14 - வது நிதிக்குழுத் தலைவர் யார் ?  
 [A] அரவிந்த் பணகாரியா [B] ஓய்.வி.ரெட்டி  
 [C] ஜி.வி.மௌலாங்கர் [D] சுகுமார் சென்

SENCE-1999

112. பின்வரும் கூற்றுகளை ஆராய்க :
- I. 1883 - ல் தோற்றுவிக்கப்பட்ட தேசிய மாநாட்டின் தலைவர் - ஆனந்த் மோகன் போஸ்  
 II. நியூ இந்தியா என்ற பத்திரிக்கையை வெளியிட்டவர் - V.V.S. ஐயர்  
 [A] I மட்டும் சரி [B] II மட்டும் சரி  
 [C] இரண்டும் தவறு [D] இரண்டும் சரி
113. கீழ்க்கண்டவற்றுள் சரியாக பொருந்துவது எது ?
- [A] வாஞ்சி ஐயர் - மெட்ராஸ் மகாஜன சபா  
 [B] அன்னிபெசன்ட் - மெட்ராஸ் நேட்டிவ் சங்கம்  
 [C] சிதம்பரம் பிள்ளை - பாரத மாதா சங்கம்  
 [D] சுப்ரமணிய சிவா - தென்னிந்திய விடுதலை கூட்டமைப்பு
114. பின்வருவனவற்றை சரியாக பொருத்துக :
- [a] ராஷ்டிரிய ஸ்வஸ்திய பீமா யோஜனா - (1) மாற்றுத் திறனாளிகளுக்கான காப்பீட்டுத் திட்டம்  
 [b] ஜன் ஸ்ரீ பீமா யோஜனா - (2) நிலமற்றவர்களுக்கான காப்பீட்டுத் திட்டம்  
 [c] சுவல்லம்பன் யோஜனா - (3) மருத்துவக் காப்பீட்டு திட்டம்  
 [d] ஆம் ஆத்மி பீமா யோஜனா - (4) ஊரக குழு ஆயுள் காப்பீட்டுத் திட்டம்  
 (a) (b) (c) (d)  
 [A] 3 4 1 2  
 [B] 4 3 2 1  
 [C] 4 1 2 3  
 [D] 3 2 4 1
115. ஒரு சில உலோகங்கள் மற்றும் அவைகளின் கலவைகள் மிகக் குறைந்த வெப்ப நிலைகளில் அதிகமான மின்னோட்டத்தையும் சுழி மின்தடையையும் கொண்டு கடத்துகின்றன இப்பண்பை வெளிப்படுத்தும் பொருட்கள் \_\_\_\_\_ எனப்படும்
- [A] மின்தடை [B] மின்தேக்கி  
 [C] மின்காப்புப் பொருட்கள் [D] மீக்கடத்திகள்
116. 2016 - அமைதிக்கான நோபல் பரிசு பெற்றவர் "யுவன் மேனுவல் சாண்டோஸ்" கொலம்பிய அதிபர் கீழ்க்கண்ட எதன் மூலம் அறியப்பட்டார் ?
- [A] கொலம்பியாவில் அமைதி மற்றும் பாதுகாப்புக்கு பாடுபட்டவர்  
 [B] கடந்த 50 ஆண்டுகளுக்கு மேலாக நிலவிவரும் உள்நாட்டு போர் முடிவுக்கு கொண்டுவந்ததால்  
 [C] கொலம்பிய அரசுக்கும், புரட்சி தலைவருக்கும் (ரோட்ரிகோ லண்டனோ) அமைதி ஒப்பந்தத்தால்  
 [D] கொலம்பிய மலைவாழ் மக்களின் நலனுக்காக 50 ஆண்டுகள் அமைதியாக போராடியதற்காக
117. கீழ்க்கண்ட கூற்றுகளை கவனித்து சரியான விடையைத் தேர்ந்தெடுக்கவும்
- (a) புரோட்டோபிளாஸ்ட் என்பது செல்சுவரற்ற பிளாஸ்மா சவ்வினால் சூழப்பட்ட செல்லாகும்.  
 புரோட்டோ பிளாஸ்டுகள் முழுத்திறன் பெற்றவை அல்ல.  
 (b) இரு வேறுபட்ட சிற்றினங்களின் உடலச் செல்களை இணைத்தல் மூலம். ஹைபிரிட்டுகளை உருவாக்கலாம்.  
 [A] (a) சரி (b) தவறு [B] (a) மற்றும் (b) தவறு  
 [C] (a) மற்றும் (b) சரி [D] (b) சரி மற்றும் (a) தவறு
118. ஒருவருடைய உடல் நலன் பாதிப்படைய காரணம்
- i, மரபியல் கோளாறுகள் ii, விட்டமின் மற்றும் மினரல்கள் குறைபாடு  
 iii, தொற்றுக் கிருமிகள் iv. ஒருவருடைய வாழ்க்கை முறைகள்  
 [A] i, ii, iii [B] ii, iii, iv  
 [C] iii, iv [D] i, ii, iii, iv

SENCE-1999

119. இந்திய அரசியலமைப்பின் 351 - வது விதி கீழ்க்கண்ட ஒன்றின் வளர்ச்சிக்கான வழிகாட்டுதல்  
 [A] இந்திமொழி [B] வட கிழக்கு பிராந்தியங்கள்  
 [C] மலைப்பகுதிகள் [D] கடற்கரைப் பிராந்தியங்கள்
120. ஸ்வரன் சிங் குமு (1976) இந்திய அரசியலமைப்புச் சட்டத்தின் எந்த அம்சத்தை ஒரு தனி பகுதியாக்க கொண்டு வர பரிந்துரை செய்தது ?  
 [A] அடிப்படை உரிமைகள்  
 [B] அடிப்படை கடமைகள்  
 [C] அரசியலமைப்பு நெறிகள்  
 [D] அரசியலமைப்பு மனு முறை
121. 15, 25, 40 மற்றும் 75 ஆல் மீதியின்றி வகுபடும் மீப்பெரும் நான்கிலக்க எண் யாது ?  
 [A] 9000 [B] 9400  
 [C] 9600 [D] 9800
122. பின்வருவனவற்றுள் பொருத்தமல்லாத ஒன்றைத் தேர்வ  
 I. உட்கருவில் இருந்து ரைபோசோம்களுக்கு தகவல்களை எடுத்துச் செல்லும் ரைபோ நியூக்ளிக் அமிலம் (ஆர்.என்.ஏ) இவை - எம்.ஆர்.என்.ஏ  
 II. Rh இரத்த வகையை கண்டறிந்தவர் - லாண்ஸ்டீனர் மற்றும் வியனர்  
 III. ஆக்சிடாஸின் ஹார்மோன் எந்த சுரப்பியின் ஹார்மோன் - பாரா தைராய்டு  
 IV. இன்சலின் மனிதனில் எந்த உறுப்பு சுரக்கிறது - கணையம்  
 [A] I மட்டும் [B] II மட்டும்  
 [C] III மட்டும் [D] IV மட்டும்
123. கீழ்க்காணும் வாக்கியங்களை கவனி :  
 கூற்று (A) : முதல் முறையாக இரண்டு சுற்றுப்பாதையில் செலுத்தப்பட்ட பி.எஸ்.எல்.வி சி - 35 வகையிலான ராக்கெட் விண்ணில் Sep 26, 2016 அன்று செலுத்தப்பட்டது.  
 காரணம் (R) : இந்தியாவின், பருவநிலை மாற்றம் தொடர்பான ஆய்வுக்காக 371 கிலோ எடையுள்ள 'ஸ்காட்சாட்-1' என்ற செயற்கைக்கோள் நிறுவப்பட்டுள்ளது, மற்றும் அமெரிக்கா, அல்ஜீரியா, கனடா உள்ளிட்ட நாடுகளால் தயாரிக்கப்பட்டுள்ள 5 செயற்கைக்கோள்கள் மற்றும் மும்பை ஐஐடி உருவாக்கியுள்ள 'பிரதம்', பெங்களூரு பி.இ.எஸ் பல்கலைக்கழகம் உருவாக்கியுள்ள 'பிசாட்' ஆகிய செயற்கைக் கோள்களும் வெற்றிகரமாக அவைகளின் சுற்றுப் பாதைகளில் நிலைநிறுத்தப்பட்டது.  
 [A] (A) மற்றும் (R) இரண்டுமே சரி (R) மற்றும் (A) க்கு சரியான விளக்கம்  
 [B] (A) மற்றும் (R) இரண்டுமே சரி (A) மற்றும் (R) க்கு சரியான விளக்கமல்ல  
 [C] (A) சரி ஆனால் (R) தவறு  
 [D] (A) தவறு ஆனால் (R) சரியானது
124. வரிசை I உடன் வரிசை II-ஐனைப் பொருத்தி வரிசைகளுக்கு கீழ் கொடுக்கப்பட்டுள்ள தொகுப்பிலிருந்து சரியான விடையினைத் தெரிவுசெய்க.  

<u>வரிசை-I</u>	<u>வரிசை-II</u>
(a) பியூனா - S	1. ஐசோபிரின்
(b) நியோபிரின்	2. அசிட்டிலீன்
(c) இயற்கை ரப்பர்	3. எத்திலீன் கிளைக்கால்
(d) பாலி எஸ்டர்	4. ஸ்டைரின்

(a)	(b)	(c)	(d)
[A] 2	3	1	4
[B] 4	2	1	3
[C] 3	1	4	2
[D] 4	3	2	1



125. ஒருவர் வேலை செய்யும் நாட்களுக்கு ரூ.20-ம் வேலை செய்யாத நாட்களுக்கு ரூ.3 குறைத்தும்பெற்றார். 60 நாட்கள் முடிவில் அவர் ரூ.280 பெற்றார் எனில் அவர் வேலை செய்யாத நாட்கள் எத்தனை ?  
 [A] 25 [B] 30  
 [C] 40 [D] 50
126. பின்வருவனவற்றுள் பொருத்தமற்றதைத் தேர்க  
 I. "அரபிக்கடலின் இராணி துறைமுகம்" எனப்படுவது - கொச்சின்  
 II. நார்ப்பயிர்களின் அரசன் எனப்படுவது - பருத்தி  
 III. பாதுகாப்பில் காணப்படும் புதிய யுக்திகளை பயன்படுத்துவது - தேசிய பூங்காக்கள்  
 IV. நீலகிரி மாவட்டத்தைச் சேர்ந்த பழங்குடியினர் - பளியர்கள், முதுவர்கள்  
 [A] I மட்டும் [B] II மற்றும் IV  
 [C] II மட்டும் [D] III மற்றும் IV
127. கீழ்க்கண்ட விசைகளில் எது அழிவின்மை அற்ற விசையாகும் ?  
 [A] உராய்வு விசை [B] ஈர்ப்பு விசை  
 [C] சுருள் விசை [D] புவியீர்ப்பு விசை
128. பின்வருவனவற்றுள் பொருத்தமற்றது எது / எவை  
 1. போதை மருந்து, குற்றவியல் விவகாரங்களுக்கான நல்லெண்ணத் தூதராக ஐ.நா. சமீபத்தில் - நாதியா முராத்தாசி தாஹா அவர்களை நியமனம் செய்துள்ளது.  
 2. இந்தியாவின் 70 - வது சுதந்திரதினம் மற்றும் எம்.எஸ்.சுப்புலட்சுமியின் (ஐ.நாவில் இசைக்கச்சேரி நடந்து 50 - வது ஆண்டை சிறப்பிக்கும் வகையில்) ஐ.நா பொதுச்சபையில் இசைக்கச்சேரி நடத்திய இரண்டாவது இந்தியர் என்ற பெருமையை பெற்றவர் - இசைஞானி இளையராஜா  
 3. சர்வதேச எழுத்தறிவு (செப்-8) தினத்தின் 50 - வது பொன்விழா ஆண்டின் மையக்கரு (Reading the Past, Writing the future)  
 4. ஐ.நாவின் 2017 - புதிய பொதுச்செயலாளராக போர்ச்சுக்களைச் சேர்ந்த "அன்டோனியா குட்டெரெஸ்" முன்னிலை வகித்து வருகிறார்  
 5. UN Trust Fund For Sexual abuse Victims (பாலியல் வன்முறைக்குட்பட்டவர்களுக்கு ஐ.நா அறக்கட்டளை நிதியத்திற்கு 1,00,000 அமெரிக்க டாலர் வழங்கிய உலகின் முதல் நாடு - இந்தியா  
 [A] 1 மற்றும் 2 மட்டும் [B] 3, 4 மட்டும்  
 [C] 5 மட்டும் [D] 2 மட்டும்
129. பின்வருவனவற்றுள் பொருந்தாததைத் தேர்வு செய்க  
 [A] 'ஆபரேஷன் சங்கத் மோச்சன்' - தெற்கு தூடானில் இருந்த இந்தியர்கள் மீட்பு நடவடிக்கை  
 [B] 'சர்ஜிகல் ஸ்ட்ரைக்' - பாகிஸ்தான் மீது இந்தியா இராணுவநடவடிக்கை செப்டம்பர்- 28  
 [C] 'மைத்ரி' - இந்தியா மற்றும் தாய்லாந்து கூட்டு இராணுவ போர் ஒத்திகை  
 [D] 'ஆபரேஷன் காம்டவுன்' - பாகிஸ்தான் தீவிரவாதிகள் இந்திய இராணுவ முகாம் மீது குண்டு வீச்சு
130. சட்டமியற்றும் முறையில் தேவையை ஒரு ரூபாய் குறைக்குமாறு ஒரு வெட்டுத் தீர்மானம் கொண்டு வரப்பட்டால் அது \_\_\_\_\_ ஆகும்.  
 [A] பொருளாதார வெட்டு  
 [B] டோக்கன் வெட்டு  
 [C] கொள்கை மறுப்பு வெட்டு  
 [D] ஆகக் குறைந்த வெட்டு
131. P என்ற புள்ளி வட்ட மையம் Q விலிருந்து 26 செ.மீ தொலைவில் உள்ளது. P யிலிருந்து வட்டத்திற்கு வரையப்பட்ட PT என்ற தொடுகோட்டின் நீளம் 10 செ.மீ எனில் OT என்பது  
 [A] 36 செ.மீ [B] 20 செ.மீ  
 [C] 20 செ.மீ [D] 24 செ.மீ

SENCE-1999

132. கந்தகா எனப்படுவது  
 I. புத்தரின் தேரோட்டி  
 II. புத்தரின் குதிரை  
 III. புத்தருக்கு தியானம் செய்ய கற்றுக்கொடுத்த ஞானி  
 IV. புத்தரின் பிரியமான ஒரு சீடர்  
 [A] I [B] II [C] III [D] IV
133. அட்டவணையில் சேர்க்கப்பட்ட வங்கிகள் எந்த அட்டவணையில் இடம் பெற்றுள்ளது  
 [A] முதல் அட்டவணை, இந்திய ரிசர்வ் வங்கி சட்டம், 1934  
 [B] இரண்டாவது அட்டவணை, இந்திய ரிசர்வ் வங்கி சட்டம், 1934  
 [C] மூன்றாவது அட்டவணை, இந்திய ரிசர்வ் வங்கி சட்டம், 1934  
 [D] நான்காவது அட்டவணை, இந்திய ரிசர்வ் வங்கி சட்டம், 1934
134. கீழ்க்கொடுக்கப்பட்டுள்ள இணைகளில் தவறான இணை எது ?  
 (a) ராமகிருஷ்ணா மிஷன் - சுவாமி விவேகானந்தர்  
 (b) பிரம்ம சமாஜம் - ராஜாராம் மோகன்ராய்  
 (c) ஆரிய சமாஜம் - கேசவ் சந்திரசென்  
 (d) பிரம்மஞான சபை - அன்னிபெசன்ட்  
 (A) (a) (B) (b) (C) (c) (D) (d)
135. வரிசை I உடன் வரிசை II-ஐனை பொருத்தி வரிசைகளுக்கு கீழ் கொடுக்கப்பட்டுள்ள தொகுப்பிலிருந்து சரியான விடையினைத் தெரிவுசெய்க.  

வரிசை-I	வரிசை-II	(a)	(b)	(c)	(d)	
(a) முதலாம் தேவராயர்	1. அரவீடு வம்சம்	[A]	2	4	1	3
(b) நரசிம்மர்	2. துளுவ வம்சம்	[B]	4	3	2	1
(c) அச்சுதராயர்	3. சாளுவ வம்சம்	[C]	3	1	4	2
(d) திருமலை	4. சங்கம வம்சம்	[D]	4	3	1	2
136. வரிசை I உடன் வரிசை II-ஐனைப் கீழே கொடுக்கப்பட்டுள்ள குறியீட்டிலிருந்து சரியாக தேர்ந்தெடுத்து பொருத்துக  

(வரிசை I)	(வரிசை II)
(a) கேபினட் தூதுக்குழு	1. 1940
(b) வேவல் திட்டம்	2. 1942
(c) கிரிபீஸ் திட்டம்	3. 1945
(d) ஆகஸ்டு அறிக்கை	4. 1946

(a)	(b)	(c)	(d)	
[A]	4	2	1	3
[B]	3	4	1	2
[C]	3	1	4	2
[D]	4	3	2	1
137.  $(1 + \frac{1}{2}) (1 + \frac{1}{3}) (1 + \frac{1}{4}) \dots (1 + \frac{1}{120})$  - ன் மதிப்பு என்ன ?  
 [A] 30 [B] 40.5 [C] 121 [D] 60.5
138. ஓர் வகுப்பிலுள்ள மாணவர்களின் மதிப்பெண்களை எழுதும் போது தவறாக 63 என்பதற்கு 83 என்று எடுத்துக்கொள்ளப்பட்டது. இதனால் வகுப்பின் சராசரி  $\frac{1}{2}$  மதிப்பெண் உயர்ந்தது எனில் வகுப்பில் உள்ள மொத்த மாணவர்கள் எத்தனை பேர் ?  
 [A] 10 [B] 20  
 [C] 40 [D] 70

139. A,B ன் வயதுகள் முறையே 40, 60 எத்தனை ஆண்டுகளுக்கு முன் அவர்களின் வயது விகிதம் 3 : 5 என இருந்திருக்கும்  
 [A] 5 ஆண்டுகள் [B] 10 ஆண்டுகள்  
 [C] 3 ஆண்டுகள் [D] 20 ஆண்டுகள்
140. 2016 - ஆம் ஆண்டிற்கான "சங்கீத கலாநிதி" விருது பெரும் முதல் வயலின் இசைக்கலைஞர் - ஏ.கன்யாகுமாரி அவர்களின் சிறப்புகள் என்ன ?  
 [A] கர்நாடக இசைப்புகழ் எம்.எல்.வசந்தகுமாரி அவர்களின் மாணவி  
 [B] இந்திய சுதந்திரதின பொன்விழா ஆண்டைச் சிறப்பிக்க 'பாரத்' என்ற புதிய இராகத்தை உருவாக்கினார்  
 [C] திருப்பதி ஏழுமலையானின் 7 பெயர்களில் "சப்தகிரி" என்ற ஏழு ராகங்களை உருவாக்கினார்  
 [D] மேற்கண்ட அனைத்தும் சரி
141. "விம்பிள்டன் டென்னிஸ்" 2016 - சாம்பியன் பட்டம் வென்றவர்களில் பொருந்தாத இணை எது ?  
 [A] ஆண்கள் ஒற்றையர் பிரிவு - ஆண்டி முர்ரே (பிரிட்டன்)  
 [B] பெண்கள் ஒற்றையர் பிரிவு - செரீனா வில்லியம்ஸ் (US)  
 [C] ஆண்கள் இரட்டையர் - ஹியூக்ஸ் ஹெர்பர்ட் & நிக்கோலஸ்  
 [D] பெண்கள் இரட்டையர் - சானியாமிர்சா & மார்டினாஹிங்கிஸ்
142. கீழ்க்கண்ட கூற்றுகளை கவனித்து சரியான விடையைத் தேர்ந்தெடுக்க  
 கூற்று (கூ) : நொதித்தலின் போது (எத்தனால்) ஆல்கஹால் மற்றும் கார்பன்டை ஆக்ஸைட் வெளியிடப்படுகிறது  
 காரணம் (கா) : நொதித்தல் ஒரு காற்றில்லா சுவாசம். இது ஈஸ்ட் செல்களில் நடைபெறுகிறது  
 [A] (கூ) மற்றும் (கா) இரண்டும் சரியானவை (கா) க்கு (கூ) சரியான விளக்கம்  
 [B] (கூ) மற்றும் (கா) இரண்டுமே சரியானவை ஆனால் (கா) (கூ) வின் சரியான விளக்கமல்ல  
 [C] (கூ) சரி (கா) தவறு  
 [D] (கூ) தவறு (கா) சரியானது
143. பின்வருவனவற்றுள் (ஜி.எஸ்.டி) பற்றி தவறான ஒன்றைத் தேர்ந்தெடு  
 [A] GST சட்டம் - 101, சட்டதிருத்தம் - 122  
 [B] "PROJECT SAKSHAM" புதிய GST வரிக்கான தகவல் தொழில்நுட்ப நெட்வொர்க் கட்டமைப்புத்திட்டம்  
 [C] GST "ஒருதேசம் ஒரு வரி" - இது ஒரு நேர்முகவரியாகும்  
 [D] GST நடைமுறை ஏப்ரல்-1, 2017
144. பின்வருவனவற்றுள் உங்கள் கருத்துப்படி சரியான விடையைத் தேர்வு ?  
 I. முதல் கர்நாடகப் போர் - 1746 -1748  
 II. மூன்றாம் கர்நாடகப் போர் - 1758 - 63  
 III. பிளாசிப் போர் - 1757  
 IV. பக்ஸார் போர் - 1764  
 மேற்கண்ட எந்த வாக்கியம் தவறானது ?  
 [A] I [B] II  
 [C] III [D] எதுவுமில்லை
145. "ஆலோசனை சபை நுழைவு" என்ற திட்டத்தை இந்திய தேசிய இயக்கத்தின் போது அறிவித்த கட்சி  
 [A] காங்கிரஸ் கட்சி [B] கதர் கட்சி  
 [C] சுயராஜ்ஜிய கட்சி [D] நீதிக்கட்சி
146. A-ன் வயது B-ன் வயதைவிட 25% அதிகம் எனில் B-ன் வயது A-ன் வயதைவிட எத்தனை சதவீதம் குறைவு ?  
 [A] 20% [B] 25% [C] 33 ⅓% [D] 5%

SENCE-1999

147. கீழ்வரும் ஜோடிகளில் எவை பொருத்தமானவை ?

1. இடுக்கி - அனல் மின் நிலையம்
2. சபரிகிரி - நீர் மின் நிலையம்
3. கட்பிரபா - நீர்பாசன திட்டம்
4. ராமகங்கா - பல் பயன்பாடு

[A] 2,3 மற்றும் 4

[B] 1,2,3 மற்றும் 4

[C] 3 மற்றும் 4

[D] 1 மற்றும் 2

148. கீழ்க்கண்டவற்றுள் தவறான இணை எது ?

- [A] "யாத்ரி மித்ரா சேவா" - முதியவர், ஊனமுற்றோர் நோயாளிகளுக்கு இரயில் பயண சேவைத்திட்டம்
- [B] "ஷீ லாம்" - 'சூப்பர் பக்' நுண்ணுயிர்களை அழிக்க மருந்து கண்டுபிடித்த மலேசிய விஞ்ஞானி
- [C] இந்தியாவின் மிகப்பெரிய முதல் தீவு மாவட்டம் "மஜிலி" - அசாம் (கின்னஸில் இடம்பெற்றுள்ளது)
- [D] சமீபத்தில் தெலுங்கான மாநிலம் புதிதாக 27 மாவட்டத்தை பிரித்துள்ளது

149. "அன்னை தெரசா" பெறாத விருது ?

[A] பத்மஸ்ரீ 1962

[B] அமைதிக்கான நோபல் பரிசு 1979

[C] பாரத ரத்னா 1980

[D] 'புனிதர்' 2016

150. (1,2) (4,6) (x, 6) (3, 2) என்பன இவ்வரிசையில் ஓர் இணைகரத்தின் முனைகள் எனில் x-ன் மதிப்பு ?

[A] 6

[B] 2

[C] 1

[D] 3

151. பொருத்துக :

- |                    |                               |
|--------------------|-------------------------------|
| (a) 1 வது அட்டவணை  | (1) இந்தியாவின் ஒன்றியங்கள்   |
| (b) 12 வது அட்டவணை | (2) மொழிகள்                   |
| (c) 9 வது அட்டவணை  | (3) நகராட்சி அமைப்புகள்       |
| (d) 8 வது அட்டவணை  | (4) நீதிப்புனராய்வு உட்படாதவை |
| (e) 10 வது அட்டவணை | (5) கட்சித்தாவல் தடைச்சட்டம்  |

(a) (b) (c) (d) (e)

[A] 1 4 2 3 5

[B] 1 2 3 4 5

[C] 1 3 4 2 5

[D] 5 4 3 2 1

152. இட ஒதுக்கீட்டுடன் தொடர்புடைய "பிறப்பிடம்" என்ற சொல் இந்திய அரசியலமைப்பின் எந்த விதியில் காணப்படுகிறது ?

[A] அரசியலமைப்பு விதி 15

[B] அரசியலமைப்பு விதி 18

[C] அரசியலமைப்பு விதி 272

[D] அரசியலமைப்பு விதி 273

153. டோப்பமைன் என்பது ஒரு \_\_\_\_\_

[A] புரதம்

[B] கார்போஹைட்ரேட்

[C] சத்துப்பொருள்

[D] போதைப்பொருள்

154. பின்வருவனவற்றுள் பொருத்தமற்ற ஒன்றைத் தேர்க

- [A] இந்தியாவின் இரும்பு பெண்மணி என்று அழைக்கப்படுபவர் - இந்திராகாந்தி
- [B] மணிப்பூரின் இரும்பு பெண்மணி என்று அழைக்கப்படுபவர் - இரோன் ஷர்மிளா
- [C] இரோன் சர்மிளா உணவின்றி உண்ணாநோன்பு இருந்த ஆண்டுகள் பதினேழு
- [D] இரோன் சர்மிளா தொடங்கிய புதிய கட்சி "மக்கள் எழுச்சி, நீதிக் கூட்டணி"

(People's Resurgence and Justice Alliance - PRJA)

155. 2016 - ஆம் ஆண்டிற்கான "ராஜீவ் காந்தி கேல்ரத்னா" விருது பெறாதவர் யார் ?  
 [A] சாக்ஷிமாலிக் - மல்யுத்தம்  
 [B] தீபா கர்மாகர் - ஜிம்னாஸ்டிக் (முதல் விருது)  
 [C] மாரியப்பன் தங்கவேலு - உயரம் தாண்டுதல்  
 [D] ஜீதுராய் - துப்பாக்கி சுடுதல்
156. பின்வரும் கூற்றுகளை ஆய்க :  
 I. அகில இந்திய சேவையை அமைக்கும் இந்திய அரசியலமைப்பு விதி - 312  
 II. அரசியலமைப்பு திருத்தல் முறையை இந்திய அரசியல் சாசனத்தின் எந்த விதி வழங்குகிறது - 368  
 III. இந்திய அரசியலமைப்பின் - 360 வது விதியுடன் தொடர்புடையது - நிதி சார்ந்த அவசரநிலை  
 IV. இந்தியா ஜம்மு காஷ்மீருக்கு விதி 380 கீழ் சிறப்பு தகுதியை வழங்கி வருகிறது  
 [A] I மட்டும் சரி [B] II மற்றும் III சரி  
 [C] I, II மற்றும் III சரி [D] I, II, III, IV சரி
157. 2011 - "மக்கள் தொகை" அடிப்படையில் நகரங்களை வரிசைப்படுத்துக  
 [A] மும்பை, டெல்லி, கொல்கத்தா, பெங்களூர், சென்னை  
 [B] மும்பை, டெல்லி, கொல்கத்தா, சென்னை, பெங்களூர்  
 [C] கொல்கத்தா, மும்பை, டெல்லி, சென்னை, ஹைதராபாத்  
 [D] டெல்லி, மும்பை, கொல்கத்தா, சென்னை, ஹைதராபாத்
158. Dr. ஜித்தேந்தர் குமார் திருபாதி எதன் மூலம் அறியப்படுகிறார்  
 [A] சமீபத்தில் நேபாள அரசியல் சாசனத்தை சமஸ்கிருதத்தில் எழுதியவர்  
 [B] சமீபத்தில் இந்திய மக்கள் சாசனத்தை சமஸ்கிருதத்தில் எழுதியவர்  
 [C] சமீபத்தில் இலங்கை அரசியல் சாசனத்தை சமஸ்கிருதத்தில் எழுதியவர்  
 [D] சமீபத்தில் ஐக்கிய நாடுகள் சாசனத்தை சமஸ்கிருதத்தில் எழுதியவர்
159. 50 பொருட்களின் விற்றவிலை 40 பொருட்கள் வாங்கிய விலைக்கு சமம். எனில் ஏற்படும் லாபம் அல்லது நட்ட சதவீதம்  
 [A] 20 % நட்டம் [B] 20 % இலாபம்  
 [C] 25 % நட்டம் [D] 25 % இலாபம்
160. ஹேபியஸ் கோர்பஸ் என்றால் "ஆட்கொணர்சு" அதே போல் "மேண்டமஸ்" என்றால் "\_\_\_\_\_"  
 [A] தடை விதித்தல் [B] கட்டளையிடுதல் (உறுத்தானை)  
 [C] அதிகார எல்லையை வினவுதல் [D] சான்றளித்தல்
161.  $2A = 3B = 4C$  A : B : C - ன் மதிப்பு  
 [A] 2 : 3 : 4 [B] 4 : 3 : 2  
 [C] 6 : 4 : 3 [D] 20 : 15 : 2
162. ரூ.30000 க்கு ஒரு குறிப்பிட்ட காலத்தில் 7% கூட்டு வட்டி வீதத்தில் ரூ.4347 கிடைக்கிறது எனில் கால அளவு  
 [A] 4 ஆண்டுகள் [B] 3 ஆண்டுகள்  
 [C] 2½ ஆண்டுகள் [D] 2 ஆண்டுகள்
163. ஆண்டுக்கு 10% கூட்டு வட்டி வீதத்தில் இரண்டு ஆண்டுகளில் ரூ.242 ஆகக்கூடிய தொகையில் தற்போதைய மதிப்பு என்ன ?  
 [A] 190 [B] 150 [C] 200 [D] 90
164.  $(925)^2 - (225)^2 = 1000 \times x$  எனில் x - ன் மதிப்பு ?  
 [A] 1850 [B] 850 [C] 805 [D] 80500



165. 13 - ஆல் வகுபடும் இறிலக்க எண்களின் எண்ணிக்கை

- [A] 7  
[C] 9

- [B] 8  
[D] 6

166. வரிசை I உடன் வரிசை II-ஐனைப் பொருத்தி வரிசைகளுக்கு கீழ் கொடுக்கப்பட்டுள்ள தொகுப்பிலிருந்து சரியான விடையினைத் தெரிவுசெய்க.

- வரிசை-I  
(a) வெப்பநிலை  
(b) ஒளிச்செறிவு  
(c) மின்னோட்டம்  
(d) நிறை

- வரிசை-II  
1. கிலோகிராம்  
2. ஆம்பியர்  
3. கேண்டிலா  
4. கெல்வின்

- [A] 4 2 3 1  
[C] 3 1 4 2

- [B] 3 4 1 2  
[D] 4 3 2 1

167. மதிப்பு காண்க : (8-1) (8-2) ..... (8-9) (8-10)

- [A] 1

- [B] 0

- [C] 2

- [D] 8

168. கீழ் கொடுக்கப்பட்டவர்களில் இந்திய தேசியத்தின் "பழம்பெரும் பெண்மணி" என்று அழைக்கப்பட்டவர்

- [A] விஜயலட்சுமி பண்டிட்  
[C] அன்னிபெசன்ட்

- [B] சரோஜினி நாயுடு  
[D] அம்புஜம்மாள்

169. வரிசை I உடன் வரிசை II-ஐனைப் பொருத்தி வரிசைகளுக்கு கீழ் கொடுக்கப்பட்டுள்ள தொகுப்பிலிருந்து சரியான விடையினைத் தெரிவுசெய்க.

- வரிசை-I  
(a) வாங் வெய்  
(b) கிருஷ்ணன் குட்டி  
(c) ஆர்.கே.லக்ஷ்மண்  
(d) நெக் சந்த்

- வரிசை-II  
1. கதகளி  
2. ஒவியம்  
3. சிற்பக்கலை  
4. கருத்துப்படம்

- [A] 2 1 4 3  
[B] 2 4 1 3  
[C] 4 1 3 2  
[D] 1 3 4 2

170. கீழ்க்கண்ட சங்கங்களிடையே காணப்படும் சிறப்பம்சம் என்ன ?

பிரிட்டிஷ் இந்திய சங்கம், பூனா சர்வஜனச் சபை மற்றும் இந்திய லீக்

- [A] A.O ஹீயும் தோற்றுவித்தவை

- [B] இந்திய தேசிய காங்கிரசின் முன்னோடிகள்

- [C] ஆங்கிலேய சங்கங்கள்

- [D] புரட்சிகர சங்கங்கள்

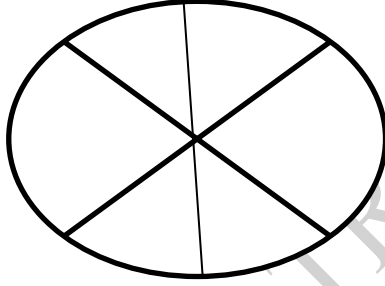
171. வரிசை I உடன் வரிசை II-ஐனைப் பொருத்தி வரிசைகளுக்கு கீழ் கொடுக்கப்பட்டுள்ள தொகுப்பிலிருந்து சரியான விடையினைத் தெரிவுசெய்க.

- பட்டியல்-I  
(a) G.V.மௌலாங்கர்  
(b) சுசுமார் சென்  
(c) V.நரஹரிராவ்  
(d) சர்தார் வல்லபாய் பட்டேல்

- பட்டியல் -II  
1. இந்தியாவின் முதல் தலைமை தணிக்கை (ம) கட்டுப்பாட்டாளர்  
2. இந்தியாவின் முதல் துணை பிரதமர்  
3. இந்தியாவின் முதல் தலைமை தேர்தல் ஆணையர்  
4. இந்தியாவின் முதல் சபாநாயகர்

- (a) (b) (c) (d)  
[A] 4 1 2 3  
[B] 1 4 2 3  
[C] 3 1 4 2  
[D] 4 3 1 2

172. 1985 - ல் இயற்றப்பட்ட கட்சி தாவல் தடைச்சட்டம், இந்திய அரசியலமைப்பின் \_\_\_\_\_ அட்டவணையில் சேர்க்கப்பட்டது  
[A] அட்டவணை VIII [B] அட்டவணை IX  
[C] அட்டவணை X [D] அட்டவணை XI
173. எந்த இரண்டு குழுக்கள் பாராளுமன்றத்தின் நிதி சார்ந்த விஷயங்களுக்காக அமைக்கப்படுகின்றன ?  
(a) வர்த்தக ஆலோசனை குழு  
(b) மதிப்பீடுகள் குழு  
(c) தெரிவுக் குழு  
(d) பொது கணக்குக் குழு  
[A] (a) மற்றும் (b) [B] (b) மற்றும் (c)  
[C] (b) மற்றும் (d) [D] (c) மற்றும் (d)
174. ஒவ்வொரு கல்லூரியிலும் பயிலும் மாணவர்கள் சதவீதம் படத்தில் காட்டப்பட்டுள்ளது. மொத்த மாணவிகள் 1800 பேர் எனில் கல்லூரி D யில் பயிலும் மாணவிகள் எத்தனை பேர் ?



- [A] 188 [B] 198 [C] 176 [D] 164

175. A, B, C, D, E, F ஆகிய 6 பேர் வரிசையாக அமர்ந்துள்ளார்கள். B என்பவர் F, D க்கு இடையில் அமர்ந்துள்ளார்கள். E என்பவர் A வுக்கும் C க்கும் நடுவில் உள்ளார். A என்பவர் F க்கோ D க்கோ அடுத்து உட்காரவில்லை. C என்பவர் D க்கு அடுத்து இல்லை F என்பவர் எந்த இரு நபர்களுக்கு இடையே உள்ளார்.  
[A] A மற்றும் C [B] C மற்றும் B  
[C] C மற்றும் D [D] A மற்றும் B

176.  - மதிப்பு காண்க :

- [A] 7 [B] 5 [C] 6 [D] 9

177. எது பெரியது ?  $\sqrt[3]{2}$  ,  $\sqrt[4]{2}$  ,  $\sqrt[3]{3}$  ,  $\sqrt[4]{4}$

- [A]  $\sqrt[3]{2}$  [B]  $\sqrt[4]{2}$   
[C]  $\sqrt[3]{3}$  [D]  $\sqrt[4]{4}$

178. "ஸ்வச் பாரத் அபியான்" பற்றி தவறானதைத் தேர்க  
 [A] 2016 - ஆம் ஆண்டிற்கான "தூய்மை இந்தியா" விருது பெற்றவர் - குன்வர்பாய் (சத்தீஸ்கர்)  
 [B] 'ஸ்வச் பாரத் அபியான் மஸ்காட்' தூதராக நியமிக்கப்பட்டவர் - சத்தீஸ்கரை சேர்ந்த குன்வர்பாய்  
 [C] 2016 - "தூய்மையான புராதான சின்னம் விருது" - "ராணி கி வாவ் கிணறு" வழங்கப்பட்டுள்ளது  
 [D] 2016 - "தூய்மையான புராதான சின்னம் விருது" - மணிகர்ணிகா படித்துறை வழங்கப்பட்டுள்ளது
179. இந்தியாவில் கீழே கொடுக்கப்பட்ட எந்த வகை காடு மிக அதிகமான பரப்பளவை கொண்டது ?  
 [A] மலை பிரதேச ஈர மித வெப்ப காடு  
 [B] உப அயன மண்டல வறண்ட பசுமை இலைக்காடு  
 [C] அயன மண்டல ஈர இலையுதிர்காடு  
 [D] அயன ஈர பசுமை இலைக்காடு
180. பாராளுமன்றத்தின் ஈரவைகளிலும் ஒவ்வொரு அமர்வின் முதல் மணி நேரத்தை என்ன கூற வேண்டும் ?  
 [A] முழு நேரம் [B] பூஜ்ய நேரம்  
 [C] கேள்வி நேரம் [D] தீர்மான நேரம்
181. இவற்றுள் இந்தியாவின் சக்தி நிறைந்த மண் பாதுகாப்பு வழி முறைகள்  
 1. சுழற்சி முறை தவிர்த்தல்  
 2. காடு வளர்ப்பு  
 3. இரசாயன உரம் உபயோகித்தலைத் தடுத்தல்  
 4. இடம் பெயருகின்ற விவசாயத்தைக் கட்டுப்படுத்துதல்  
 [A] 1 மற்றும் 2 [B] 2 மற்றும் 4  
 [C] 3 மற்றும் 4 [D] 1, 2 மற்றும் 3
182. ஒரு கூட்டுத்தொடரின் அடுத்தடுத்த மூன்று உறுப்புகள்  $K + 2$ ,  $4K - 6$ ,  $3K - 2$  எனில் K-வின் மதிப்பு ?  
 [A] 2 [B] 3  
 [C] 4 [D] 5
183. 12 செ.மீ ஆரமும் 24 செ.மீ உயரமும் கொண்ட ஓர் உலோக கூம்பை உருக்கி தலா 2 செ.மீ ஆரம் கொண்ட கோளமாக உருக்கினால் எத்தனை கோளங்கள் கிடைக்கும் ?  
 [A] 144 [B] 180  
 [C] 108 [D] 120
184. கீழே காணும் ஆணையங்கள் தன் நோக்கத்தோடு இணைத்து தவறான இணையை தேர்வு செய்க  

<u>ஆணையம்</u>	<u>நோக்கம்</u>
(i) கலேல்கர் ஆணையம்	- பின்தங்கிய வகுப்பினர்
(ii) கபூர் ஆணையம்	- காந்தி கொலை வழக்கு
(iii) சர்காரியா ஆணையம்	- 1984, சீக்கிய எதிர்ப்பு கலவரம்
(iv) நாநாவதி ஆணையம்	- மத்திய - மாநில உறவுகள்

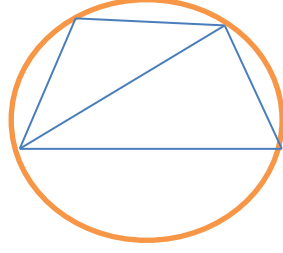
 [A] (i) மற்றும் (ii) [B] (iii) மற்றும் (iv)  
 [C] (ii) மற்றும் (iv) [D] (i) மற்றும் (iv)
185. பின்வரும் கூற்றில் தவறானவற்றை ஆராய்க :  
 I. ஹீமோபிலியா, தலாசீமியா, அல்பினிசம் மரபியல் குறைபாட்டால் ஏற்படும் நோய்கள்  
 II. சர்க்கரைநோய், மலட்டுத்தன்மை, உடல் பருமன் ஹார்மோன் குறைபாட்டால் ஏற்படும் நோய்கள்  
 III. நிக்டோலோபியா, ஸ்கர்வி, ரிக்கட்ஸ் விட்டமின் குறைபாட்டால் ஏற்படும் நோய்கள்  
 IV. மலேரியா, இன்புளுயன்ஸா, பைலேரியா கடத்திகள் மூலம் பரவும் நோய்கள்  
 [A] I மற்றும் III [B] I மற்றும் II  
 [C] III மட்டும் [D] எதுவுமில்லை

186. ஒரு பசுவை 20% லாபத்தில் ரூ.2400 க்கு விற்கால் அதன் அடக்க விலை என்ன ?  
 [A] ரூ.1000 [B] ரூ.2000 [C] ரூ.1800 [D] ரூ.1500
187. குடியரிமை பற்றிய விதி \_\_\_\_\_ இந்திய அரசியலமைப்பு சாசனத்தின் \_\_\_\_\_ பகுதியில் குறிப்பிடப்பட்டுள்ளது  
 [A] விதி 5 முதல் 11 வரை பகுதி II  
 [B] விதி 6 முதல் 11 வரை பகுதி II  
 [C] விதி 14 முதல் 21 வரை பகுதி II  
 [D] விதி 5 முதல் 21 வரை பகுதி II
188. ஒரு செவ்வகத்தின் நீளம் 10% அதிகரிக்கப்பட்டு பின் அகலம் 5% குறைக்கப்பட்டால் அதன் பரப்பில் ஏற்படும் மாற்றம் என்ன ?  
 [A] 4½ குறையும் [B] 5½ குறையும்  
 [C] 4½ அதிகரிக்கும் [D] 5½ அதிகரிக்கும்
189. பொருத்துக :  
 (a) செவாலியர் விருது 1. டி.எம். கிருஷ்ணா  
 (b) கல்பனா சாவ்லா விருது 2. பீட்டர் டாட்ச்சில்  
 (c) இராமன் மகசேசே விருது 3. கமலஹாசன்  
 (d) சர்வதேச காந்தி அமைதி விருது 4. ஜெயந்தி  
 (a) (b) (c) (d)  
 [A] 1 2 3 4  
 [B] 3 4 1 2  
 [C] 3 1 4 2  
 [D] 4 3 2 1
190. பின்வருவனவற்றுள் எது / எவை சரி  
 I. நவீன இந்தியாவின் "ஸ்தல சுயாட்சியின் தந்தை" - ரிப்பன் பிரபு  
 II. சதி என்னும் உடன் கட்டை ஏறும் வழக்கத்தை ஒழித்தவர் - வில்லியம் பெண்டிங் பிரபு (1829)  
 III. இந்தியாவின் மிகச் சிறந்த ஓவியர் - ரவி வர்மா  
 IV. தாய்மொழி பத்திரிக்கை தடை சட்டத்தை கொண்டுவந்தவர் - லிட்டன் பிரபு (1878)  
 [A] I.II.III. சரி IV தவறு  
 [B] I.II தவறு ஆனால் III. IV சரி  
 [C] I மட்டும் தவறு II. III. IV சரி  
 [D] I மற்றும் II. III. IV சரி
191. வரிசை I உடன் வரிசை II-ஐனைப் பொருத்தி வரிசைகளுக்கு கீழ் கொடுக்கப்பட்டுள்ள தொகுப்பிலிருந்து சரியான விடையினைத் தெரிவுசெய்க.  

<u>இடங்கள்</u>	<u>அணுசக்தி நிலையங்கள்</u>
(a) கோட்டா	1. உத்திரபிரதேசம்
(b) கல்பாக்கம்	2. மகாராஷ்டிரா
(c) பாபா	3. ராஜஸ்தான்
(d) நரோரா	4. தமிழ்நாடு

  
 (a) (b) (c) (d)  
 [A] 3 4 2 1  
 [B] 1 4 2 3  
 [C] 3 1 4 2  
 [D] 4 3 1 2

192. வட்ட நாற்கரத்தின்  $x$  - ன் மதிப்பு என்ன ?



[A]  $90^\circ$

[B]  $60^\circ$

[C]  $30^\circ$

[D]  $20^\circ$

193. வரிசை I உடன் வரிசை II-ஐனை பொருத்தி வரிசைகளுக்கு கீழ் கொடுக்கப்பட்டுள்ள தொகுப்பிலிருந்து சரியான விடையினைத் தெரிவுசெய்க.

பட்டியல்-I	பட்டியல் -II	(a)	(b)	(c)	(d)
(a) 8 - வது BRICS மாநாடு	1. கஜிராவோ	[A] 4	3	2	1
(b) 1 - வது BRICS திரைப்பட மாநாடு	2. பெங்களுரு	[B] 1	4	2	3
(c) BRICS சுற்றுலா மாநாடு	3. டெல்லி	[C] 3	1	4	2
(d) BRICS இளம் விஞ்ஞானிகள் மாநாடு	4. கோவா	[D] 4	3	1	2

194. கீழ்வருவனவற்றுள் எவை சரியாக பொருந்தியுள்ளது ?

I. வைக்கம் வீரர்	- ஈ.வெ. ராமசாமி	[B] III மற்றும் IV சரி
II. சுயமரியாதை இயக்கம்	- டி.எம். நாயர்	[D] I மற்றும் III சரி
III. திராவிட கழகம்	- சேலம் மாநாடு	
IV. தென்னிந்திய விடுதலை இயக்கம்	- நீதிக்கட்சி	
[A] I மற்றும் II சரி		
[C] I மற்றும் III, IV சரி		

195. துருவ மண்டலத்தின் பரவல் \_\_\_\_\_

[A] $66^\circ$ மற்றும் $100^\circ$	[B] $60^\circ$ மற்றும் $180^\circ$
[C] $50^\circ$ மற்றும் $180^\circ$	[D] $60^\circ$ மற்றும் $90^\circ$

196. ஒரு எண்ணின்  $3/4$  பங்கின்  $1/3$  பங்கின்  $1/4$  பங்கு 25 எனில் அந்த எண்

[A] 200	[B] 300
[C] 400	[D] 500

197. கீழ் கொடுக்கப்பட்டுள்ளவற்றை பொருத்துக :

பட்டியல்-I	பட்டியல் -II	(a)	(b)	(c)	(d)
(a) நாணாசாகிப்	1. பீகார்	[A] 3	4	1	2
(b) பேகம் ஹஸ்ரத் மஹால்	2. பராக்பூர்	[B] 1	4	2	3
(c) குன்வர் சிங்	3. கான்பூர்	[C] 3	1	4	2
(d) மங்கள பாண்டே	4. லக்னோ	[D] 3	4	2	1

198. வரிசை I உடன் வரிசை II-ஐனை பொருத்தி வரிசைகளுக்கு கீழ் கொடுக்கப்பட்டுள்ள தொகுப்பிலிருந்து சரியான விடையினைத் தெரிவுசெய்க.

பட்டியல் - I	பட்டியல் - II	(a)	(b)	(c)	(d)
(a) தைமொசின்	1. BMR - கட்டுப்பாடு	[A] 4	3	2	1
(b) கால்சிடோனின்	2. தசைவிலகல்	[B] 1	2	3	4
(c) தைராக்ஸின்	3. T - செல் வளர்ச்சி	[C] 3	1	4	2
(d) ரிலாக்ஸின்	4. தாதுக்கள் வரையறைப்படுத்துதல்	[D] 3	4	1	2



199. பின்வருவனவற்றுள் எந்த ஒன்று பஞ்சாயத்து அலகிற்கான மக்கள் தொகை அளவு 1500 - லிருந்து 2000 - க்குள் இருக்க வேண்டும் என்று பரிந்துரைத்தது  
 [A] பல்வந்தராய் மேத்தா குழு - 1957  
 [B] காங்கிரஸ் கிராம பஞ்சாயத்து குழு 1954  
 [C] அசோக் மேத்தா குழு  
 [D] தேசிய வளர்ச்சி மன்ற குழு
200. உலகின் மிகப்பெரிய பாதுகாக்கப்பட்ட இடம் "PAPAHANAUMOKUAKEA" கடல்சார் தேசிய சின்னம் ஆகும் அமெரிக்க அதிபர் ஓபாமாவால் சமீபத்தில் அறிவிக்கப்பட்டது, பசுபிக் பெருங்கடலில் எத்தீவில் அமைந்துள்ளது ?  
 [A] சாலமன் தீவு [B] மெரியானா தீவு  
 [C] மார்ஷல் தீவு [D] ஹவாய்தீவு



All the best for  
your Exams

More fun only on [www.ApnaTalks.com](http://www.ApnaTalks.com)

**2013 GROUP - IV - தேர்வில் வெற்றி பெற்றவர்கள்**

- |                 |                                    |                  |
|-----------------|------------------------------------|------------------|
| ✓ விண்ணரசு      | இளநிலை உதவியாளர் வருவாய் துறை      | - சங்கராபுரம்    |
| ✓ வடிவேலன்      | இளநிலை உதவியாளர் வருவாய் துறை      | - விழுப்புரம்    |
| ✓ மரிவளன்       | இளநிலை உதவியாளர் வருவாய் துறை      | - சங்கராபுரம்    |
| ✓ தங்கபாண்டியன் | இளநிலை உதவியாளர் ஊரக வளர்ச்சி துறை | - வேலூர்         |
| ✓ ருத்ரகுமார்   | வருவாய்த்துறை (தட்டச்சர்)          | - கள்ளக்குறிச்சி |
| ✓ மணிகண்டன்     | இளநிலை உதவியாளர் பள்ளிக்கல்வி துறை | - நாகலூர்        |
| ✓ அருணா         | இளநிலை உதவியாளர் பள்ளி கல்வி துறை  | - தேவபாண்டலம்    |
| ✓ கீதா          | இளநிலை உதவியாளர் வருவாய்த்துறை     | - காஞ்சிபுரம்    |

**2015 GROUP - IV - தேர்வில் வெற்றி பெற்றவர்கள்**

- |              |  |                  |
|--------------|--|------------------|
| ✓ சிராஜ்தீன் | இளநிலை உதவியாளர் வருவாய்த்துறை               | - விருத்தாச்சலம் |
| ✓ சரவணசக்தி  | வரைவாளர் நில அளவை பிரிவு                     | - கடலூர்         |
| ✓ சரண்யா     | இளநிலை உதவியாளர் சுகாதார துறை                | - தியாகதுருகம்   |
| ✓ அமுதா      | இளநிலை உதவியாளர் ஊரக வளர்ச்சி துறை           | - தியாகதுருகம்   |
| ✓ கல்பனா     | இளநிலை உதவியாளர் பத்திரப்பதிவு துறை          | - கள்ளக்குறிச்சி |
| ✓ வெண்ணிலா   | இளநிலை உதவியாளர் ஊரக வளர்ச்சி துறை           | - கள்ளக்குறிச்சி |
| ✓ மணிவாசகி   | இளநிலை உதவியாளர் வருவாய்த்துறை               | - சங்கராபுரம்    |
| ✓ அனிதா      | இளநிலை உதவியாளர் வேளாண்மை துறை               | - சின்னசேலம்     |
| ✓ கலைமதி     | இளநிலை உதவியாளர் முன்னால் படை வீரர் நலத்துறை | - கள்ளக்குறிச்சி |
| ✓ செல்வி     | தட்டச்சர் ஊரக வளர்ச்சி துறை                  | - கள்ளக்குறிச்சி |
| ✓ சுபத்ரா    | தட்டச்சர் நகராட்சி துறை                      | - திருக்கோயிலூர் |
| ✓ கவிதா      | தட்டச்சர் காவல் துறை                         | - விழுப்புரம்    |
| ✓ அஞ்சலி     | NOT WILLING TO JOIN                          | [NOW IN VAO]     |
| ✓ ரகுபதி     | NOT WILLING TO JOIN                          | [NOW IN VAO]     |
| ✓ மணிகண்டன்  | NOT WILLING TO JOIN                          | [NOW IN VAO]     |
| ✓ விஜயகுமார் | NOT WILLING TO JOIN                          | [NOW IN G-2 a]   |

**space for rough work**

ARIVU TRUST

**space for rough work**

ARIVU TRUST

## **ANSWER**

- [1] B [2] D [3] A [4] A [5] B [6] A [7] B [8] C [9] D [10] B [11] B [12] A [13] A [14] A  
[15] D [16] C [17] B [18] C [19] D [20] A [21] D [22] C [23] B [24] D [25] D [26] C [27] C [28] A  
[29] B [30] D [31] D [32] D [33] C [34] A [35] B [36] B [37] A [38] D [39] C [40] A [41] D [42] B  
[43] A [44] C [45] D [46] B [47] B [48] A [49] C [50] B [51] C [52] A [53] D [54] B [55] C [56] B  
[57] B [58] D [59] A [60] C [61] D [62] C [63] B [64] C [65] D [66] C [67] A [68] D [69] B [70] D  
[71] C [72] A [73] D [74] D [75] A [76] C [77] A [78] A [79] A [80] B [81] A [82] B [83] D [84] B  
[85] A [86] D [87] D [88] D [89] B [90] D [91] B [92] D [93] B [94] B [95] D [96] A [97] B [98] C  
[99] D [100] B [101] D [102] C [103] C [104] B [105] B [106] C [107] C [108] C [109] D  
[110] D [111] B [112] A [113] C [114] A [115] D [116] B [117] B [118] D [119] A [120] B  
[121] C [122] C [123] A [124] B [125] C [126] D [127] A [128] D [129] D [130] C [131] D  
[132] B [133] B [134] C [135] B [136] D [137] D [138] C [139] B [140] D [141] D [142] A  
[143] C [144] D [145] C [146] A [147] A [148] D [149] D [150] A [151] C [152] A [153] D  
[154] C [155] C [156] C [157] B [158] D [159] A [160] B [161] C [162] D [163] C [164] C  
[165] A [166] D [167] B [168] C [169] A [170] B [171] D [172] C [173] C [174] B [175] B  
[176] C [177] C [178] D [179] C [180] C [181] B [182] B [183] C [184] B [185] D [186] B  
[187] A [188] C [189] B [190] D [191] A [192] D [193] D [194] C [195] D [196] C [197] A  
[198] D [199] C [200] D